



**SIMULADOSBR**

ESTUDE COM A GENTE!

**Simulado Preparatório – 01**  
**Concurso do Corpo de Bombeiros Militar da Bahia**

**Cargo: Aluno-Oficial (Cadete)**

**Informações**

- ✓ Tempo de Prova: 5h
- ✓ Banca Organizadora: CPS – UNEB
- ✓ Número de Questões: 75
- ✓ Modalidade: Múltipla-Escolha

**Conteúdo / N<sup>o</sup> de Questões**

- Língua Portuguesa – 15
- Língua Inglesa – 10
- Ciências Humanas e Naturais – 20
- Matemática / Raciocínio Lógico – 10
- Informática – 05
- Direito – 15

**Importante**

1. Curta nossas páginas:  
2. Este simulado é gratuito – compartilhe seu material
3. Caso tenha dúvidas ou sugestões, entre em contato conosco.
4. Tenha uma ótima preparação – Estamos torcendo por você!

**Bom Simulado!**

## Língua Portuguesa

### Texto I (Questões 01 e 02)

#### [Retratos fiéis]

Não sei por que motivo há de a gente desenhar tão objetivamente as coisas: o galho daquela árvore exatamente na sua inclinação de quarenta e três graus, o casaco daquele homem justamente com as ruguinhas que no momento apresenta, e o próprio retratado com todos seus pés-de-galinha minuciosamente contadinhos... Para isso já existe há muito tempo a fotografia, com a qual jamais poderemos competir em matéria de objetividade.

Se, para contrabalançar minhas lacunas, me houvesse Deus concedido o invejável dom da pintura, eu seria um pintor lírico (o adjetivo não é bem apropriado, mas vai esse mesmo enquanto não ocorrer outro). Quero dizer, o modelo serviria tão só do ponto de partida. O restante eu transfiguraria em conformidade com meu desejo de fantasia e poder de imaginação.

(Mário Quintana)

#### 01. Demonstra-se boa compreensão de um segmento do texto no seguinte caso:

- A Se, para contrabalançar minhas lacunas, me houvesse Deus concedido o (...) dom = caso Deus tivesse compensado minhas falhas agraciando-me com o talento
- B o próprio retratado com todos seus pés-de-galinha minuciosamente contadinhos = o fotógrafo mesmo, que não poupa detalhes, perde-se ao contar minúcias
- C com a qual jamais poderemos competir em matéria de objetividade = com cuja materialidade nem mesmo sendo objetivos havemos de tratar
- D Não sei por que motivo há de a gente desenhar tão objetivamente as coisas = Não vejo razão para renunciarmos à objetividade quando desenhamos
- E O restante eu transfiguraria em conformidade com meu desejo de fantasia = O que sobrasse eu dispensaria para poder fazer jus ao meu critério de artista

#### 02. No primeiro parágrafo, o autor do texto exprime sua convicção de que a

- A pintura, sendo mais criativa que a fotografia, desfruta de melhores condições para ser de fato uma arte.
- B fotografia, ainda que seja uma técnica capaz de objetividade, não distingue os detalhes que uma pintura pode realçar.
- C fotografia, em sua propriedade de retratar tudo objetivamente, alcança mais precisão do que qualquer pintura.
- D pintura, em seu afã de retratar tudo objetivamente, acaba por relevar detalhes que a própria fotografia não exprime.
- E pintura, quando descarta sua obsessão em retratar tudo com o máximo de detalhes, aproxima-se mais da arte da fotografia.

**03. Em: “fui surpreendida por uma andorinha solitária, QUE CRUZOU O PARA-BRISA DO CARRO A TODA.”, a oração destacada classifica-se como:**

- A subordinada substantiva apositiva
- B subordinada adjetiva restritiva.
- C coordenada sindética aditiva
- D coordenada sindética explicativa
- E subordinada adjetiva explicativa

**04. Indique a alternativa em que é obrigatório o uso do sinal indicativo de crase:**

- A O cigarro é prejudicial a saúde.
- B O historiador referiu-se a Tarsila.
- C Eles foram a Brasília.
- D Ele foi até a praça a pé.
- E Fiquei prostrado a sua espera.

**05. De acordo com o sistema oficial vigente, emprega-se devidamente o hífen em:**

- A Autoidolatria.
- B Contraespião.
- C Contrassenso.
- D Autorretrato.
- E Vicealmirante.

**06. Assinale a opção CORRETA em que todas as palavras estão acentuadas na mesma posição silábica.**

- A fenômeno, história, está.
- B ausência, pedúnculos, pés.
- C está, próxima, rápida.
- D Fenômeno, climatológico, Jerônimo.
- E Município, botânico, Paraíba.

**07. Marque a opção CORRETA quanto à concordância do verbo ser**

- A Duas surras serão pouco para ele aprender.
- B Dez anos são nada na eternidade.
- C Fernando Pessoa são vários poetas.
- D Amigos é o que não me falta.
- E Dez dólares são bem menos que dez libras esterlinas.

**08. A pontuação está correta em:**

- A A maioria dos leitores, não fez a lista das boas coisas da vida.
- B Quando você chuta uma bola, o único objetivo é o gol.
- C Apesar da felicidade, do amigo é difícil aceitar o casamento.
- D Apreciava solitário, os poemas enviados para ela.

E O resultado das conversas, entre eles foi revelado a todos.

**09. No enunciado “Estuda-se muito nesse colégio. Comecei a fazer reflexões amargas”, temos dois tipos de sujeitos, consecutivamente. Marque a alternativa correta:**

- A Sujeito simples. Sujeito composto.
- B Sujeito oculto. Sujeito indeterminado.
- C Sujeito desinencial. Sujeito simples.
- D Oração sem sujeito. Sujeito oculto.
- E Sujeito indeterminado. Sujeito oculto.

**10. Na elaboração da comunicação oficial escrita deve-se atentar para alguns aspectos, EXCETO:**

- A O uso do jargão burocrático, como todo jargão, deve ser evitado, pois terá sempre sua compreensão limitada.
- B O uso dos pronomes de tratamento ocorre em três momentos distintos: no endereçamento, no vocativo e no corpo do texto. No vocativo, o autor dirige-se ao destinatário no início do documento. No corpo do texto, pode-se empregar os pronomes de tratamento em sua forma abreviada ou por extenso. O endereçamento é o texto utilizado no envelope que contém a correspondência oficial.
- C Nas comunicações oficiais, o vocativo será sempre seguido de dois pontos.
- D A consulta ao dicionário e à gramática são imperativas na redação de um bom texto.
- E A digitação sem erros, o uso de papéis uniformes para o texto definitivo, nas exceções em que se fizer necessária a impressão, e a correta diagramação do texto são indispensáveis para a padronização.

### **Texto II (Questões 11 a 15)**

Desde 2016, registra-se queda na cobertura vacinal de crianças menores de dois anos. Segundo o Ministério da Saúde, entre janeiro e agosto, nenhuma das nove principais vacinas bateu a meta estabelecida — imunizar 95% do público-alvo. O percentual alcançado oscila entre 50% e 70%.

As autoridades atribuem o desleixo a duas causas. Uma: notícias falsas alarmantes espalhadas pelas redes sociais. Segundo elas, vacinas seriam responsáveis pelo autismo e outras enfermidades. A outra: a população apagou da memória as imagens de pessoas acometidas por coqueluche, catapora, sarampo. Confirmar-se-ia, então, o dito de que o que os olhos não veem o coração não sente.

Trata-se de comportamento irresponsável que tem consequências. De um lado, ao impedir que o infante indefeso fique protegido contra determinada doença, os pais lhe comprometem a saúde (e até a vida). De outro, contribuem para que a enfermidade continue a se propagar pela população. Em bom português: apunhalam o individual e o coletivo. Põem a perder décadas de esforço governamental de proteger os brasileiros de doenças evitáveis.

O Brasil, vale lembrar, é citado como modelo pela Organização Mundial de Saúde. As campanhas de vacinação exigiram esforço hercúleo. Para cobrir o território nacional e cumprir o calendário, enfrentaram selvas, secas, tempestades. Tiveram êxito. Deixaram relegada para as

páginas da história a revolta da vacina, protagonizada pela população do Rio de Janeiro que, no início do século passado, se rebelou contra a mobilização de Oswaldo Cruz para reduzir as mazelas do Rio de Janeiro. O médico quis resolver a tragédia da varíola com a Lei da Vacina Obrigatória.

Tal fato seria inaceitável hoje. A sociedade evoluiu e se educou. O calendário de vacinação tornou-se rotina. Graças ao salto civilizatório, o país conseguiu erradicar males que antes assombravam a infância. O retrocesso devolverá o Brasil ao século 19. Há que reverter o processo. Acerta, pois, o Ministério da Saúde ao deflagrar nova campanha de adesão para evitar a marcha rumo à barbárie. O reforço na equipe de agentes de imunização deve merecer atenção especial.

(Diário de Pernambuco)

**11. “O reforço na equipe de agentes de imunização deve merecer atenção especial”. Nessa frase que encerra o texto, observa-se uma ambiguidade de sentido, a qual se atribui ao emprego de**

- A atenção, que pode denotar repreensão e também aludir a serviços especializados.
- B reforço, que pode significar tanto uma ação eficaz quanto uma proposta inviável.
- C agentes, que pode remeter a funcionários do governo e ainda à população não vacinada.
- D deve, que pode expressar uma probabilidade e também exprimir uma sugestão.
- E imunização, que pode referir-se ao ato de vacinar e ao ato de propagar doença.

**12. No contexto global do texto, a palavra processo, no último parágrafo, refere-se a**

- A queda na cobertura vacinal de crianças menores de dois anos.
- B calendário de vacinação tornou-se rotina.
- C Lei da Vacina Obrigatória.
- D revolta da vacina, protagonizada pela população do Rio de Janeiro.
- E décadas de esforço governamental de proteger os brasileiros de doenças evitáveis.

**13. Uma frase em que se divulga informação sem a explícita veiculação de um juízo de valor é:**

- A Põem a perder décadas de esforço governamental de proteger os brasileiros de doenças evitáveis. (3º parágrafo)
- B Trata-se de comportamento irresponsável que tem consequências. (3º parágrafo)
- C Desde 2016, registra-se queda na cobertura vacinal de crianças menores de dois anos. (1º parágrafo)
- D Graças ao salto civilizatório, o país conseguiu erradicar males que antes assombravam a infância. (5º parágrafo)
- E O retrocesso devolverá o Brasil ao século 19. (5º parágrafo)

**14. Com a alusão ao provérbio o que os olhos não veem o coração não sente, reforça-se a ideia de que**

- A as campanhas de conscientização do Ministério da Saúde não devem subestimar o conhecimento que o público adquire por meio do estudo formal.
- B as notícias falsas espalhadas pelas redes sociais são eficazes porque recorrem a registros audiovisuais que apelam a um envolvimento afetivo.
- C a imunização carece do estabelecimento de metas realistas, embora informar a população acerca dos riscos das doenças seja uma estratégia válida.
- D a população já se esqueceu dos riscos de algumas doenças visadas pelas atuais campanhas de vacinação, como coqueluche, catapora e sarampo.
- E as campanhas de vacinação têm priorizado inadvertidamente doenças que já não implicam risco de contágio à maior parte da população.

**15. O texto expressa um ponto de vista condizente com o que se afirma em:**

- A Doenças já erradicadas voltaram a assolar a população porque os brasileiros não foram orientados a vacinar seus filhos.
- B As campanhas de vacinação do Ministério da Saúde foram mal planejadas e, por isso, não chegaram a alcançar sucesso.
- C O pouco conhecimento da população brasileira acerca das campanhas de vacinação acarretou surtos de doenças evitáveis.
- D A população brasileira é irresponsável ao não aderir às campanhas de vacinação promovidas pelo Ministério da Saúde.
- E Falta investimento público em campanhas de vacinação que sejam de fato eficazes para o controle de doenças letais.

## Língua Inglesa

**16. The word overloaded is formed by:**

- A Compounding
- B Prefixation and suffixation
- C Prefixation
- D Suffixation
- E Conversion

**17. The word "children" is to "child" as**

- A wild is to wildly.
- B dark is to darken.
- C dampen is to damp.
- D closed is to closure.
- E analyses is to analysis.

**18. Choose the best alternative to complete the blanks: Anne was born \_\_\_ July 2<sup>nd</sup>, \_\_\_ the morning \_\_\_ Germany.**

- A on / in / in.
- B in / in / in.
- C on / in / on.
- D on / in / at.
- E at / on / on.

19. Choose the **CORRECT** conjunction to complete the sentence: “you can have my bike \_\_\_\_\_ you bring it back tomorrow”.

- A so
- B as long as
- C as if
- D as though
- E whereas

### Texto III (Questões 20 a 22)

#### **This Chrome extension lets you learn a new language by watching Netflix**

01 Learning a new language through immersion doesn't mean you have to pack your bags and  
02 move to Europe for three months. Now, you just need to turn \_\_\_ Netflix. *Language Learning with*  
03 *Netflix* is a Chrome extension that lets you watch shows with two subtitles on \_\_\_ the same time  
04 so you can visually pair translations with dialogue and learn some new vocabulary in the process.  
05 Its a clever service that makes use of Netflix's massive catalogue and all of the major languages  
06 in which it already offers subtitles, including Danish, Dutch, English, French, German, Italian,  
07 Norwegian, Portuguese, Spanish, Swedish, and Turkish.

08 The extension was created by developers David Wilkinson and Ognjen Apic who experimented  
09 with making their own language learning software before collaborating on *Language Learning with*  
10 *Netflix*. "For some languages (Farsi, for example), there's only a limited amount of learning  
11 materials available", Wilkinson said in an email. "I think a lot of people would enjoy studying a  
12 language with material they are already familiar with".

13 The tool works best as a supplement for people who already have some basic understanding  
14 of the language they're learning. There's a vocabulary-highlighting feature that greys out less  
15 common words, which is adjustable to match your vocabulary level. Hovering over a word  
16 produces a pop-up dictionary, and clicking the word lets you hear it. You can also slow down the  
17 dialogue or automatically pause playback at the end of every subtitle, so you can learn line by  
18 line. There's even a catalogue of recommendations for movies and shows that are good to study.

19 The Chrome extension is free to use, but Wilkinson and Apic's product is expected to have  
20 more features, like additional subtitles \_\_\_ dubbed dialogue, which would only be available for paid  
21 users. "Netflix has alternative audio tracks for many well-known series, but the subtitles in other  
22 languages don't match the audio", Wilkinson said. "We're considering creating new subtitles for  
23 these alternative audio tracks, so you could study German, for example, with *Breaking Bad* with  
24 matching German audio and subtitles".

25 One of the few downsides is that the tool only works on Google Chrome, so you can't use it  
26 with your Netflix app on tablets or streaming services like Roku or Apple TV. Hopefully, the service  
27 can make it's way beyond browsers soon because it's obvious that the potential \_\_\_ language  
28 learning through media is huge. Viki, a streaming service for Asian dramas, implemented a "Learn  
29 Mode" in 2017 that essentially does the same thing by showing two subtitles at once. The  
30 developers say they haven't contacted Netflix yet, but "the project could likely go faster and  
31 further with their support".

20. Observe the following statements about the text:

I. The best way to learn a new language is to watch Netflix with subtitles.

**II. The new tool produces new subtitles based on Netflix audio tracks, helping students watch their favourite shows in the language they are learning.**

**III. The project is in its initial development state, and developers are working closely with Netflix to expand the tool to different platforms.**

**Which ones are INCORRECT?**

- A Only I.
- B Only II.
- C Only III.
- D Only I and III.
- E I, II and III.

**21. Analyse if the pronouns and its reference are correctly indicated.**

**I. 'which' (I.06) refers to 'catalogue' (I.05).**

**II. 'who' (I.08) refers to 'David Wilkinson and Ognjen Apic' (I.08).**

**III. 'that' (I.18) refers to 'shows' (I.18).**

**IV. 'it' (I.25) refers to 'Google Chrome' (I.25)**

**Which ones are INCORRECT?**

- A Only I and II.
- B Only II and IV.
- C Only III and IV.
- D Only I, II and III.
- E Only I, III and IV.

**22. Observe the sentence and analyse the following statements: "you could study German, for example, with Breaking Bad".**

**I. 'could' could be replaced by 'can' without affecting the meaning.**

**II. The question form of the sentence is "Could you study German, for example, with Breaking Bad?".**

**III. To form a negation, we should only insert the 'don't' before 'could'.**

**Which ones are INCORRECT?**

- A Only I.
- B Only II.
- C Only III.
- D Only I and III.
- E Only II and III.

**23. Mark the sentence in which the passive voice is used correctly: "They are repairing the bridge"**

- A The bridge is repaired.

- B The bridge was repaired.
- C The bridge has been repaired.
- D The bridge is being repaired.
- E They would be repairing the bridge.

#### Texto IV (Questão 24)

Most people today have a mobile phone. In fact, many people can't imagine how they ever got along without a portable phone. However, many people also complain about cell phone users. People complain about other people loudly discussing personal matters in public places. They complain when cell phones ring in movie theaters and concert halls. They complain about people driving too slow, and not paying attention to where they are going because they are talking on a cell phone. And they complain about people walking around talking to people who aren't there.

Whenever a new communications technology becomes popular, it changes the way society is organized. Society has to invent rules for the polite way to use the new devices. Our social etiquette, our rules of politeness for cell phones, is still evolving.

(IndianChild)

**24. O uso de celulares em lugares públicos tem sido prática corrente. O texto aponta que essa prática tem gerado**

- A anseios por recursos para ampliar os benefícios dos dispositivos.
- B reclamações sobre a falta de normas no comportamento dos usuários.
- C questionamentos a respeito da dependência constante dessa tecnologia.
- D discussões acerca da legislação para a comercialização de telefones.
- E dúvidas dos usuários em relação ao manuseio de novos aparelhos.



**SPRING BREAK CAMP**  
MARCH 20, 23-27, 2015  
**Fun with Folk Art!**  
Art can be made by anyone!  
From pioneers in the Florida frontier to ancient Timucuan Indian tribes, artistic tradition abounds across many cultures! Learn how to make Native American pottery, sing pioneer folk songs, and listen to folk tales passed down through generations!

The image shows a Native American woman in traditional dress standing in front of a group of children. In the background, there is a scene of a pioneer on a boat on a river.

**25. Tendo em vista a procura por atividades de lazer em períodos de recesso escolar, esse anúncio**

- A divulga uma proposta de acampamento com abordagem temática.
- B anuncia a exibição de uma série de filmes sobre tradições culturais.

- C comunica a abertura de inscrições para um curso de música folclórica.
- D encoraja a realização de oficinas de contação de história para crianças.
- E convida para a apresentação de uma peça teatral sobre cultura indígena.

## Ciências Humanas e Naturais

**26. O exercício pleno da cidadania na democracia representativa ocorre quando os cidadãos possuem a garantia dos direitos civis, políticos e sociais, que possibilitam:**

- A direito à vida, acesso à propriedade e participação nos lucros.
- B liberdade individual, igualdade perante a lei e igualdade econômica.
- C liberdade coletiva, democracia direta e direito à propriedade.
- D liberdade, participação nos destinos da sociedade e na riqueza coletiva.
- E direito de ir e vir, autogestão da vida coletiva e liberdade econômica.

**27. Na sociedade contemporânea, as relações de trabalho no campo, no setor produtivo e no setor comercial estão sendo modificadas por novas tecnologias de mecanização e de informação. Considerando o impacto de tais tecnologias nas relações de trabalho, é correto afirmar que**

- A o trabalho braçal passará a ser socialmente valorizado no contexto das tecnologias de informação.
- B a proliferação das tecnologias de informação compromete a geração de empregos no setor comercial.
- C o aumento da produtividade agrícola mecanizada foi benéfico para a geração de empregos no campo.
- D as tecnologias de informação e mecanização permitem gerar mais empregos no setor produtivo.
- E a exigência de alta qualificação técnica no setor produtivo permite melhorar os índices de emprego.

**28. Com relação ao meio ambiente, pode-se dizer que:**

- A é pouco importante para a sociedade, pois vivemos na era do consumo.
- B fornece os recursos naturais de forma contínua e sempre sustentável.
- C é o resultado material da ação humana, da natureza transformada pelo trabalho social.
- D serve como mercadoria do sistema capitalismo que utiliza seus recursos naturais de forma equilibrada.
- E atende às demandas da sociedade que por sua vez utiliza seus recursos naturais com responsabilidade social.

**29. Para responder à questão, considere o mapa. onde são destacados dois problemas ambientais.**



**As áreas indicadas com os algarismos I e II apresentam problemas ambientais relacionados, respectivamente.**

- A à desertificação e à contaminação de rios e lagos.
- B à chuva ácida e à erosão dos solos.
- C à erosão dos solos e ao desmatamento.
- D ao desmatamento e à chuva ácida.
- E à contaminação de rios e lagos e à desertificação.

**30. As principais instituições sociais responsáveis pela socialização de um indivíduo são a família e a escola. A socialização é um processo que diz respeito à**

- A obtenção do conhecimento científico necessário à vida social.
- B exteriorização das expectativas das crianças quanto às normas de convívio com os grupos sociais.
- C interiorização de normas, regras, valores, crenças e saberes de uma sociedade.
- D seleção das formas eficazes de conduzir as crianças a posições de prestígio social.
- E integração social da criança por meio do reconhecimento das hierarquias sociais.

**31. A falta de higiene e saneamento básico contribui para o aumento de diversas doenças, entre as quais está o(a)**

- A catapora.
- B cólera.
- C caxumba.
- D sarampo.
- E HIV.

**32. “Uma das missões de exploração robótica mais longevas e bem-sucedidas da história chegou ao fim nesta quarta-feira, 13 de fevereiro (2019). Depois de passar oito meses tentando reavivar o rover Opportunity, que está no planeta desde janeiro de 2004, a NASA deu por encerrada a missão. Ele não resistiu à tempestade de areia que cobriu todo o planeta em junho do ano passado. Com os painéis solares encobertos por uma grossa**

**crosta de poeira, ficou impossibilitado de captar energia.” O robô Opportunity cumpria missão em**

- A Marte.
- B Saturno.
- C Vênus
- D Netuno.
- E Júpiter.

**33. Analise as características a seguir:**

- I. Intensificação do comércio, disseminação de novas tecnologias e a circulação de informações, que vem provocando uma maior aproximação entre os lugares do mundo.**
- II. Tem sido viabilizada pela Terceira Revolução Industrial, processo caracterizado por grandes transformações técnico-científicas, consolidando assim um espaço global economicamente integrado.**
- III. Aumento da ação de transnacionais pela quase totalidade do espaço mundial, isso devido ao forte investimento por parte destas no setor produtivo nas vias de comunicação.**
- IV. Vem acentuando as desigualdades econômicas nas últimas décadas.**

**Pode-se concluir que essas características se referem ao processo denominado:**

- A Concentração espacial.
- B Desemprego estrutural.
- C Transição para a economia de mercado.
- D Regionalização do espaço global.
- E Globalização.

**34. Em 2018, foi lançado o Atlas Solar da Bahia, onde se lê, na Mensagem do Governador: “O Atlas Solar da Bahia disponibiliza, para todas as partes interessadas (empreendedores, acadêmicos, reguladores, governantes, ambientalistas e proprietários de terras), um conjunto de informações precisas a respeito do potencial de geração de energia elétrica através da tecnologia fotovoltaica. A evolução tecnológica, com a consequente redução nos custos dos painéis solares, a necessidade de se ampliar o uso das energias limpas, os incentivos fiscais já regulamentados para o segmento e as amplas áreas aptas à implantação de parques solares na Bahia, formam um conjunto de vetores mobilizadores que irão dinamizar a economia do estado”. As afirmativas a seguir resumem corretamente a Mensagem do Governador citada, à exceção de uma. Assinale-a.**

- A O Estado da Bahia apresenta grande potencial para a produção de energias limpas.
- B A cadeia produtiva da energia solar fotovoltaica representa uma oportunidade de desenvolvimento econômico regional.
- C O Atlas constitui uma ferramenta de planejamento para investimentos no segmento da energia solar.
- D O Estado e a sociedade devem colaborar para desenvolver pesquisas e negócios em energias alternativas.

E A concentração da matriz elétrica a partir de fontes não renováveis é adequada à região do semiárido brasileiro.

**35. Analise, sobre o estado da Bahia:**

- ( ) A Bahia é o segundo estado mais populoso da Região nordeste do Brasil;
- ( ) A primeira capital brasileira foi a cidade de Salvador, na Bahia;
- ( ) O estado da Bahia faz divisa com os seguintes estados brasileiros: Sergipe, Alagoas, Pernambuco, Piauí, Tocantins, Goiás, Minas Gerais e Espírito Santo;
- ( ) Dentre as cidades mais populosas do estado da Bahia, estão: Feira de Santana e Vitória da Conquista.

**Assinale (V) para as afirmações verdadeiras e (F) para as falsas e em seguida marque a alternativa que apresenta a ordem correta de cima para baixo:**

- A V-F-F-V.
- B F-V-V-V.
- C F-F-V-V.
- D V-V-F-F.
- E V-V-V-V.

**36. Foi uma guerra entre o Exército Brasileiro e integrantes de um movimento popular com base sócio-religioso, liderado por um cearense de Quixeramobim, ocorrido entre 1896 e 1897. O movimento tinha caráter coletivista, messiânico e monarquista. Foram necessárias quatro expedições para o exército vencer os sertanejos. O confronto descrito recebeu o nome de:**

- A Guerra dos Aimorés.
- B Levante dos Tupinambás.
- C Conjuração Baiana.
- D Guerra de Canudos.
- E Levante Sertanejo.

**37. Foi na Bahia, entre \_\_\_\_\_ e \_\_\_\_\_, que a frota de Pedro Álvares Cabral ancorou, no ano de 1500, marcando o descobrimento do Brasil pelos europeus e a celebração da primeira missa, na praia da Coroa Vermelha, feita por frei Henrique Soares de Coimbra. Quais os nomes das duas cidades que devem preencher corretamente as lacunas?**

- A Caravelas e Prado.
- B Olivença e Valença.
- C Porto Seguro e Ilhéus.
- D Alcobaça e Porto Seguro.
- E Santa Cruz de Cabrália e Porto Seguro.

**38. A história do Carnaval de Salvador mostra o aparecimento do Ilê Aiyê, em meados dos anos 1970, como um fenômeno decisivo. O Ilê Aiyê é elemento central da chamada**

**“reafricanização” da folia baiana, denominando-se bloco afro. Muitos blocos afros surgiram depois dele, buscando também tematizar a cultura africana e o orgulho negro. Dentre eles se tornaram conhecidos nacionalmente o Olodum e o AraKetú. A partir do texto, identificam-se**

- A elementos da arte e da cultura afro-brasileira e o resgate dessa cultura.
- B termos africanos que não dizem respeito à cultura brasileira.
- C desvalorização da reafricanização como elemento da cultura brasileira.
- D elementos culturais de um povo que se manifesta eminentemente por meio da música e da arte.
- E elementos culturais que caracterizam a discriminação da cultura africana.

**39. Determinadas ações humanas são objeto de valoração - são consideradas justas ou injustas, certas ou erradas, boas ou más. O ato de valorar é sempre praticado pelo sujeito moral. Em relação ao universo dos valores, é correto afirmar que:**

- A a coragem, a beleza, a justiça são valores cujo conteúdo, para os homens de um mesmo país ou região, não muda através dos tempos.
- B os valores morais provêm, antes de tudo, da cultura ou do grupo a que pertence o indivíduo.
- C os valores existem apenas no plano da razão, já que o porquê ou a origem deles é geralmente sabido pelos indivíduos.
- D os juízos morais de valor dizem o que algo é (bom ou mau, feio ou bonito), simplesmente, e não como algo deve ser.
- E os valores dependem exclusivamente da avaliação de cada indivíduo, que julga por si mesmo o mundo ao redor, a despeito do que pensam ou julgam outros indivíduos.

**40. Países do MERCOSUL vão atuar juntos no combate ao crime. Os senadores aprovaram o Projeto de Decreto Legislativo 104/2018 que confirma o texto do acordo de cooperação entre os países membros e associados do MERCOSUL, para a criação de equipes conjuntas de investigação. São países Membros efetivos do MERCOSUL, exceto:**

- A Uruguai.
- B Brasil.
- C Paraguai.
- D México.
- E Argentina.

**41. Durante as estações chuvosas, aumentam no Brasil as campanhas de prevenção à dengue, que têm como objetivo a redução da proliferação do mosquito Aedes aegypti, transmissor do vírus da dengue. Que proposta preventiva poderia ser efetivada para diminuir a reprodução desse mosquito?**

- A Colocação de telas nas portas e janelas, pois o mosquito necessita de ambientes cobertos e fechados para a sua reprodução.
- B Substituição das casas de barro por casas de alvenaria, haja vista que o mosquito se reproduz na parede das casas de barro.

- C Remoção dos recipientes que possam acumular água, porque as larvas do mosquito se desenvolvem nesse meio.
- D Higienização adequada de alimentos, visto que as larvas do mosquito se desenvolvem nesse tipo de substrato.
- E Colocação de filtros de água nas casas, visto que a reprodução do mosquito acontece em águas contaminadas.

**42. A exploração econômica de um determinado ecossistema deveria estar apoiada na valoração dos danos causados ao ambiente no que se refere às perdas, a curto, médio e longo prazo, de bens e serviços a ele associados. São considerados, respectivamente, um bem e um serviço de um ecossistema florestal a**

- A vegetação arbórea e fauna de solo.
- B respiração edáfica e ciclagem de nutrientes.
- C ciclagem de nutrientes e vegetação arbustiva.
- D vegetação arbórea e produtividade primária.
- E produtividade primária e fertilidade do solo.

**43. O físico e matemático inglês Sir Isaac Newton publicou um estudo que, em parte, explicou três relações fundamentais entre força e movimento, que explicam vários fenômenos físicos de nossa experiência cotidiana. Newton, em seus experimentos, verificou que o conceito de massa estava relacionado com o fato de os objetos resistirem à mudança em seu estado de movimento. Ele descreveu essa relação como uma propriedade intrínseca e imutável da massa dos corpos e dos objetos. Essa propriedade é definida na primeira lei de Newton. A primeira lei de Newton garante que**

- A um objeto em movimento tende a parar quando encontra sua posição natural de repouso.
- B um objeto em movimento tende a permanecer em movimento, podendo variar a velocidade, sua direção e sentido.
- C um objeto permanece fazendo o que for, a menos que uma força nula atue sobre ele, fazendo-o descrever uma trajetória curva.
- D a massa é uma propriedade intrínseca de um objeto. No caso, o objeto continuará a mover-se a menos que uma força resultante nula seja aplicada para alterar seu movimento.
- E um objeto permanece em seu estado de repouso ou de movimento uniforme em uma linha reta, a menos que mude aquele estado por forças imprimidas sobre ele.

**44. A água é uma molécula bastante abundante no Universo, inclusive na Terra, onde cobre boa parte da superfície, e é o maior constituinte dos fluidos dos seres vivos. Em relação à molécula de água, está correto afirmar que é:**

- A linear.
- B angular, sendo o ângulo H-O-H próximo de  $180^\circ$ .
- C angular, sendo o ângulo H-O-H menor que  $90^\circ$ .
- D angular, sendo o ângulo H-O-H maior que  $90^\circ$ .
- E cíclica.

**45. Por meio de pesquisas em vários livros, os alunos descobriram que as substâncias podem ser de três tipos: iônica, molecular ou metálica. As substâncias gasosas nas condições ambientais são moleculares. São propriedades gerais dos gases moleculares:**

- A A atração entre suas moléculas é muito forte, o espaço entre elas é muito pequeno e suas moléculas se apresentam relativamente presas em suas posições
- B A atração entre suas moléculas é muitíssimo fraca, o espaço entre elas é pequeno e suas moléculas se apresentam livres para se movimentarem
- C A atração entre suas moléculas é forte, o espaço entre elas é muito grande e suas moléculas se apresentam relativamente presas em suas posições.
- D A atração entre suas moléculas é forte, o espaço entre elas é pequeno e suas moléculas se apresentam em total desordem.
- E A atração entre suas moléculas é muitíssimo fraca, o espaço entre elas é muito grande e suas moléculas se apresentam em total desordem

## Matemática / Raciocínio Lógico

**46. Quantos anagramas poderão ser formados com a palavra BRASILEIRO de maneira que as letras BR e RO sempre permaneçam juntas, e nesta ordem?**

- A 10.080 anagramas.
- B 80.640 anagramas.
- C 725.760 anagramas.
- D 40.320 anagramas.
- E 20.160 anagramas.

**47. Devido ao erro no processo de armazenamento de um laboratório, foram colocados em uma mesma caixa 30 comprimidos de um antibiótico e 40 comprimidos de um anti-inflamatório. Um paciente retira, aleatoriamente, um comprimido dessa caixa. Qual é a probabilidade de esse comprimido ser de um antibiótico?**

- A  $\frac{3}{4}$
- B  $\frac{3}{7}$
- C  $\frac{4}{3}$
- D  $\frac{4}{7}$
- E  $\frac{7}{3}$

**48. Uma cidade com 52 000 habitantes tem 54% de mulheres. Sabendo que nessa cidade 35% das mulheres são casadas, o número de mulheres solteiras é:**

- A 28080.
- B 9828.
- C 17828.
- D 18828.
- E 18252.

**49. Adriana aplicou R\$15000,00 a juros simples, a uma taxa semestral de 6%. Após 3 anos, o montante resgatado dessa aplicação foi de:**

- A R\$2700,00
- B R\$5400,00
- C R\$17700,00
- D R\$18400,00
- E R\$20400,00

**50. A respeito das características da função  $y = -x + 3$  assinale a alternativa que apresenta a descrição correta.**

- A A função é negativa para todo  $x > 3$ .
- B A função é positiva para todo  $x > 0$ .
- C A função se anula quando  $x = 0$ .
- D A função se anula quando  $x = -3$ .
- E A função é crescente.

**51. Se apenas  $\frac{3}{7}$  (três sétimos) do piso de uma casa de  $196\text{m}^2$  está revestido de cerâmica, quantos metros quadrados de cerâmica serão necessários adquirir para seu Antônio completar o revestimento da casa toda?**

- A 84.
- B 95.
- C 112.
- D 100.
- E 64.

**52. Sabe-se que o fundo da nova piscina da casa do Gilberto tem 25 m de comprimento, 4 m de largura e 70 cm de espessura. Qual é o volume de concreto necessário para refazer o fundo dessa piscina?**

- A  $70\text{ m}^3$
- B  $250\text{ m}^3$
- C  $140\text{ m}^3$
- D  $80\text{ m}^3$
- E  $700\text{ m}^3$

**53. A equação  $x^2 + 5x - 14 = 0$  tem duas raízes reais. Subtraindo-se a menor da maior obtém-se**

- A -9.
- B -5.
- C 5.
- D 7.
- E 9.

**54. Murilo planeja percorrer 90 km em 4 dias de caminhada. Ele vai percorrer, em cada um dos últimos três dias, o dobro da distância que percorreu no dia anterior. A diferença entre o total da distância que Murilo percorrerá no primeiro e quarto dias com o total da distância que percorrerá no segundo e terceiro dias será igual a**

- A 18 km.
- B 21 km.
- C 28 km.
- D 14 km.
- E 24 km.

**55. A: Chove.**

**B: Maria sai de casa.**






**C: Luiz carrega um guarda-chuva.**

**Com base nas sentenças acima, a sentença  $A \rightarrow (\sim B \wedge C)$  significa que**

- A chover é condição necessária para Maria não sair de casa e Luiz carregar um guarda-chuva.
- B chover é condição suficiente para Maria não sair de casa e Luiz carregar um guarda-chuva.
- C chover é condição necessária para Maria não sair de casa ou Luiz carregar um guarda-chuva.
- D Maria não sair de casa e Luiz carregar um guarda-chuva são condições suficientes para chover.
- E Maria não sair de casa ou Luiz carregar um guarda-chuva é condição necessária para chover.

## Informática

**56. Assinale a opção que indica, no MS-Windows 10, a tecla utilizada para abrir (mostrar) o menu Iniciar.**

- A 
- B 
- C 
- D 
- E 

**57. No contexto da segurança da informação, há três pilares essenciais que devem ser considerados: confidencialidade, integridade e disponibilidade. Acerca desse assunto, assinale a alternativa que indica a medida que reforça o pilar de integridade.**

- A Implementar um plano de recuperação de desastres em caso de perda de dados importantes.
- B Definir acesso a informações somente para pessoas autorizadas.
- C Implementar processos de manutenção rápida de hardware.
- D Conscientizar os funcionários para que não violem regras e para que sigam os procedimentos de sigilo de dados.
- E Permitir a reversão de arquivos para versões anteriores, para casos de edições acidentais.

**58. Sobre o Microsoft Office Word 2007, com base na figura abaixo é correto afirmar que trata-se de:**



- A Linha base .
- B Linha de sinalização .
- C Linha de direção .
- D Linha régua.
- E Linha de comando.

**59. Na planilha do Excel 2007 ilustrada na figura abaixo, caso a célula C6 seja preenchida pela fórmula =SOMA(C2:C5)\*1,1, seu valor resultante será**

	A	B	C	D
1				
2		Valor 1	5,58	
3		Valor 2	9,45	
4		Valor 3	8,00	
5		Valor 4	8,05	
6		Total		
7				

- A o somatório dos valores de C2, C3, C4 e C5.
- B o somatório dos valores de C3, C4, C5 e C6.
- C um décimo do somatório dos valores de C2, C3, C4 e C5
- D o somatório dos valores de C2, C3, C4 e C5 mais 10% deste valor.
- E a simples soma dos valores C2 e C5 multiplicados por 1,1.

**60. Adriana enviou um arquivo por e-mail do seu computador do trabalho para Carlos, funcionário da sua empresa. Carlos recebeu o arquivo corretamente e salvou na sua máquina. As etapas realizadas por Carlos e Adriana, respectivamente, são classificadas como:**

- A Upload e Download.

- B Upload e Intranet.
- C Download e Upload.
- D Intranet e provedor.
- E Download e Web.

## Direito

**61. Todos são iguais perante a lei, sem distinção de qualquer natureza, garantindo-se aos brasileiros e aos estrangeiros residentes no País:**

- A Apenas a liberdade e a igualdade.
- B Apenas a inviolabilidade do direito à vida.
- C Apenas a igualdade e segurança.
- D Apenas a igualdade, segurança e propriedade.
- E A inviolabilidade do direito à vida, liberdade, igualdade, segurança e propriedade.

**62. Na sistemática constitucional, existem matérias que podem ser disciplinadas por leis da União, dos Estados e do Distrito Federal. Nesse caso, a União se limita à edição de normas gerais. Trata-se de competência legislativa:**

- A concorrente;
- B privativa;
- C exclusiva;
- D livre;
- E partilhada.

**63. Sobre as disposições constitucionais acerca do Ministério Público e seus membros, assinale a alternativa correta.**

- A O Ministério Público abrange apenas o Ministério Público Federal e os Ministérios Públicos dos Estados.
- B A legitimação do Ministério Público para as ações civis impede a legitimidade de terceiros, nas mesmas hipóteses, segundo o disposto na Constituição e na lei.
- C Aos Membros do Ministério Público, é vedado exercer, salvo quando em disponibilidade, qualquer outra função pública, exceto uma de magistério.
- D Dentre as funções institucionais do Ministério Público, encontra-se defender judicialmente os direitos e interesses das populações indígenas.
- E A autorização pela maioria simples do Senado Federal deverá preceder a destituição do Procurador-Geral da República, por iniciativa do Presidente da República.

**64. De acordo com a Declaração Universal dos Direitos Humanos, assinale a alternativa incorreta:**

- A Todo indivíduo tem direito à vida, à liberdade e à segurança pessoal.
- B A escravatura e o trato dos escravos, em tempos de paz, são proibidos.

- C Ninguém será submetido à tortura nem a penas ou tratamentos cruéis, desumanos ou degradantes.
- D Todos os indivíduos têm direito ao reconhecimento, em todos os lugares, da sua personalidade jurídica.
- E Ninguém pode ser arbitrariamente preso, detido ou exilado.

**65. Prevê a Declaração Universal dos Direitos Humanos que o casamento**

- A não será válido senão com o livre e pleno consentimento dos nubentes.
- B deve ser celebrado por autoridade civil.
- C não gera direitos e deveres iguais para homens e mulheres.
- D é a união indissolúvel entre homens e mulheres.
- E deverá ser celebrado por autoridade da religião do homem.

**66. A imposição de uma multa ao motorista que desrespeita o sinal vermelho consiste em uma sanção decorrente do exercício, pela Administração Pública, do Poder**

- A Hierárquico.
- B Vinculado.
- C Discricionário.
- D Normativo.
- E de Polícia.

**67. Segundo a visão da doutrina tradicional, para validade do ato administrativo, é correto afirmar a exigência dos seguintes requisitos:**

- A Competência, Finalidade e Publicidade.
- B Objeto, Finalidade, Competência, Motivo e Forma.
- C Objeto, Forma, Finalidade e Motivação.
- D Competência, Formalidade, Mérito e Objeto.
- E Eficiência, Forma, Motivo e Objeto.

**68. Segundo a Lei Estadual nº 7,990/2001, quem das autoridades abaixo é mais superior hierárquico?**

- A Cabo;
- B Major;
- C Tenente-Coronel BM;
- D 2º Sargento BM;
- E 1º Tenente.

**69. Em relação aos crimes contra o patrimônio, assinale a alternativa correta.**

- A É isento de pena o agente que pratica o crime de roubo contra seu cônjuge, na constância da sociedade conjugal.
- B É isento de pena o agente que pratica o crime de furto em prejuízo de seu cônjuge, que possui 50 anos de idade, na constância da sociedade conjugal.

- C A pena do delito de receptação é reduzida de um a dois terços se o crime for praticado contra descendente, seja o parentesco legítimo ou ilegítimo.
- D A pena do delito de furto é aumentada de um terço se o crime for praticado em prejuízo do cônjuge, na constância da sociedade conjugal.
- E É isento de pena quem pratica o crime de extorsão em prejuízo do cônjuge judicialmente separado.

**70. Valtemir praticou conjunção carnal com sua enteada Flaviana, que possui 12 anos de idade. Assim, Valtemir deve responder pelo crime de:**

- A satisfação de lascívia mediante presença de criança ou adolescente (artigo 218-A do CP).
- B submissão de criança ou adolescente à prostituição ou à exploração sexual (artigo 244-A da Lei nº 8.069/1990).
- C estupro de vulnerável (artigo 217-A do CP).
- D corrupção de menores (Lei nº 2.252/1954).
- E assédio sexual (artigo 216-A do CP).

**71. Considere as seguintes situações:**

**I - Funcionário público simula viagem para receber dinheiro referente a diárias.**

**II - Empresário oferece valor em dinheiro a funcionário público para obter velocidade na tramitação de processo administrativo de seu interesse.**

**III - Secretário de Estado toma conhecimento de desvio funcional de subordinado, mas não determina a apuração dos fatos por se tratar de seu amigo e aliado político.**

**Tais situações constituem, respectivamente, os crimes contra a Administração Pública de:**

- A corrupção passiva – corrupção ativa – favorecimento pessoal.
- B peculato – prevaricação – favorecimento pessoal.
- C condescendência criminosa – concussão – prevaricação.
- D peculato – corrupção ativa – prevaricação.
- E condescendência criminosa – peculato – corrupção passiva.

**72. São considerados crimes hediondos, nos termos da Lei nº 8.072/1990, todos os abaixo, EXCETO:**

- A homicídio qualificado.
- B latrocínio.
- C estupro.
- D epidemia com resultado morte.
- E roubo com uso de arma de fogo.

**73. O inquérito policial**

A é um procedimento que pode ser presidido tanto pelo delegado de polícia quanto pelo membro do Ministério Público, desde que, neste último caso, tenha sido este o órgão responsável pela investigação.

- B acompanhará a denúncia ou queixa, sempre que servir de base a uma ou outra.
- C que apresentar vício contaminará eventual ação penal subsequente proposta com base nos elementos por ele colhidos.
- D gera, quando arquivado, preclusão absoluta, não sendo possível o início de ação penal, ainda que tenha por fundamento a existência de novas provas.
- E é um procedimento escrito, obrigatório e preparatório da ação penal, imprescindível para embasar o oferecimento da denúncia.

**74. Acerca do exame de corpo de delito, assinale a alternativa correta:**

- A Dar-se-á prioridade à realização do exame de corpo de delito quando se tratar de crime que envolva violência contra criança, adolescente, idoso ou pessoa com deficiência.
- B A confissão do acusado supre o exame de corpo de delito indireto, mesmo quando a infração deixar vestígios.
- C Na falta de perito oficial, o exame será realizado por 3 (três) pessoas idôneas, portadoras de diploma de curso superior preferencialmente na área específica, dentre as que tiverem habilitação técnica relacionada com a natureza do exame.
- D O exame de corpo de delito poderá ser feito durante o dia ou, mediante autorização judicial, no período noturno.
- E O juiz ficará adstrito ao laudo, podendo aceitá-lo, rejeitá-lo ou determinar novo exame de corpo de delito.

**75. É correto afirmar que**

- A o crime militar de dormir em serviço exige o dolo do autor para a sua caracterização.
- B a ingestão de álcool pelo militar durante o serviço caracteriza o crime militar de embriaguez em serviço.
- C o simples concerto para deserção não é crime militar.
- D pratica o crime militar de exercício de comércio a praça que toma parte na administração ou gerência de sociedade comercial.
- E o militar que usa indevidamente uniforme, distintivo ou insígnia de posto ou graduação superior somente cometerá crime militar se obtiver alguma vantagem desse uso.

## Proposta de Redação

### “A IMPORTÂNCIA DO DESENVOLVIMENTO SUSTENTÁVEL NO BRASIL”

Texto de Apoio – Relatório da Organização das Nações Unidas (ONU) aponta o risco de extinção de quase 1 milhão de espécies da fauna e da flora: 559 dos 6.190 animais e plantas domesticados foram extintos, até 2016, e outros mil estão ameaçados. Plantações selvagens, importantes para a sobrevivência do homem a longo prazo, também estão ameaçadas. Tudo isso apesar dos esforços das populações locais. O documento foi o primeiro a contar com a participação de povos indígenas e aborígenes. Eles são ocupantes de um quarto da superfície terrestre, a parcela em que o desenvolvimento econômico deixou menos sequelas. Além do mais, o oceano apresenta uma taxa de poluição por plástico dez vezes maior do que nos anos 80, em razão da lenta decomposição do material e do aumento do uso de embalagens. Ainda sim, os estudos mostram uma saída para essa “sinuca de bico”. “A intenção não era apenas assustar. Vários alertas foram feitos, como o Relatório Brundtland e o da ECO-92. O intuito não era paralisar as pessoas, mas sim indicar cenários do que pode acontecer, dependendo das opções econômicas e de consumo”, afirma Cristina Adams, professora da Escola de Artes, Ciências e Humanidades (EACH), e membro da Plataforma Intergovernamental para Biodiversidade e Serviços Ecossistêmicos (IPBES), iniciativa da ONU, responsável pela pesquisa. “De todas as simulações feitas por software, a única que se mostrou viável, a longo prazo, foi o famoso desenvolvimento sustentável”, conta. Todos os indicadores ambientais estão diminuindo a uma taxa sem precedentes, segundo a pesquisadora. “São necessárias ações urgentes, que envolvem esforços globais dos governos em adotar abordagens integradas de manejo, abordagens econômicas integradas entre diferentes áreas e setores da economia, decisões sobre a produção alimentar, de energia, de infraestrutura e manejo da biodiversidade de uma forma geral”, declara Cristina. “Não dá mais para avaliar economias globais simplesmente pelo crescimento econômico.” A diretora-geral da Organização das Nações Unidas para a Educação, a Ciência e a Cultura (Unesco), Audrey Azoulay, alegou que, “após a adoção deste relatório histórico, ninguém poderá dizer que não sabia. Não podemos mais destruir a diversidade de vida. Esta é nossa responsabilidade com as gerações futuras”.

### **OBSERVAÇÕES:**

1. A redação deverá conter no mínimo 100 (cem) palavras, considerando-se palavras todas aquelas pertencentes às classes gramaticais da Língua Portuguesa.
2. Não copie os textos da prova, sob pena de ter a redação zerada.
3. Recomenda-se que a redação seja escrita em letra cursiva legível. Caso seja utilizada letra de forma (caixa alta), as maiúsculas deverão receber o devido realce.
4. Dê um título à redação.
5. Será atribuída nota ZERO à Prova Discursiva – Redação que:
  - a) não desenvolver o tema proposto, ou seja, fugir ao tema proposto;
  - b) não desenvolver o tema na tipologia textual exigida;
  - c) apresentar desestruturação na organização textual ou atentar contra o pudor;
  - d) redigir seu texto a lápis, ou a tinta em cor diferente de azul ou preta;
  - e) entregar a redação em branco, ou desenvolvê-la com letra ilegível, com espaçamento excessivo entre letras, palavras, parágrafos e margens;
  - f) apresentar identificação de qualquer natureza (nome parcial, nome completo, outro nome qualquer, número(s), letra(s), sinais, desenhos ou códigos).

## Folha – Redação

1	
2	
3	
4	
5	
6	
7	
8	
9	
10	
11	
12	
13	
14	
15	
16	
17	
18	
19	
20	
21	
22	
23	
24	
25	
26	
27	
28	
29	
30	

## Cartão-Resposta

01	A	B	C	D	E	21	A	B	C	D	E	41	A	B	C	D	E	61	A	B	C	D	E
02	A	B	C	D	E	22	A	B	C	D	E	42	A	B	C	D	E	62	A	B	C	D	E
03	A	B	C	D	E	23	A	B	C	D	E	43	A	B	C	D	E	63	A	B	C	D	E
04	A	B	C	D	E	24	A	B	C	D	E	44	A	B	C	D	E	64	A	B	C	D	E
05	A	B	C	D	E	25	A	B	C	D	E	45	A	B	C	D	E	65	A	B	C	D	E
06	A	B	C	D	E	26	A	B	C	D	E	46	A	B	C	D	E	66	A	B	C	D	E
07	A	B	C	D	E	27	A	B	C	D	E	47	A	B	C	D	E	67	A	B	C	D	E
08	A	B	C	D	E	28	A	B	C	D	E	48	A	B	C	D	E	68	A	B	C	D	E
09	A	B	C	D	E	29	A	B	C	D	E	49	A	B	C	D	E	69	A	B	C	D	E
10	A	B	C	D	E	30	A	B	C	D	E	50	A	B	C	D	E	70	A	B	C	D	E
11	A	B	C	D	E	31	A	B	C	D	E	51	A	B	C	D	E	71	A	B	C	D	E
12	A	B	C	D	E	32	A	B	C	D	E	52	A	B	C	D	E	72	A	B	C	D	E
13	A	B	C	D	E	33	A	B	C	D	E	53	A	B	C	D	E	73	A	B	C	D	E
14	A	B	C	D	E	34	A	B	C	D	E	54	A	B	C	D	E	74	A	B	C	D	E
15	A	B	C	D	E	35	A	B	C	D	E	55	A	B	C	D	E	75	A	B	C	D	E
16	A	B	C	D	E	36	A	B	C	D	E	56	A	B	C	D	E	76	<del>A</del>	<del>B</del>	<del>C</del>	<del>D</del>	<del>E</del>
17	A	B	C	D	E	37	A	B	C	D	E	57	A	B	C	D	E	77	<del>A</del>	<del>B</del>	<del>C</del>	<del>D</del>	<del>E</del>
18	A	B	C	D	E	38	A	B	C	D	E	58	A	B	C	D	E	78	<del>A</del>	<del>B</del>	<del>C</del>	<del>D</del>	<del>E</del>
19	A	B	C	D	E	39	A	B	C	D	E	59	A	B	C	D	E	79	<del>A</del>	<del>B</del>	<del>C</del>	<del>D</del>	<del>E</del>
20	A	B	C	D	E	40	A	B	C	D	E	60	A	B	C	D	E	80	<del>A</del>	<del>B</del>	<del>C</del>	<del>D</del>	<del>E</del>

## Gabarito – Simulado 01

01	A	21	C	41	C	61	E
02	C	22	C	42	D	62	A
03	E	23	D	43	E	63	D
04	A	24	B	44	D	64	B
05	E	25	A	45	E	65	A
06	D	26	D	46	E	66	E
07	D	27	B	47	B	67	B
08	B	28	C	48	E	68	C
09	E	29	D	49	E	69	B
10	C	30	C	50	A	70	C
11	D	31	B	51	C	71	D
12	A	32	A	52	A	72	E
13	C	33	E	53	E	73	B
14	D	34	E	54	A	74	A
15	D	35	B	55	B	75	A
16	B	36	D	56	E	76	X
17	E	37	E	57	E	77	X
18	A	38	A	58	D	78	X
19	B	39	B	59	D	79	X
20	B	40	D	60	C	80	X



**SIMULADOSBR**

ESTUDE COM A GENTE!