

SIMULADO AMOSTRA

CORPO DE BOMBEIROS MILITAR DO PIAUÍ
Soldado



PROVA OBJETIVA

Língua Portuguesa

Texto I (Questões 01 e 02)

Bumba meu boi ganha título de Patrimônio Cultural da Humanidade

Celebração maranhense se junta a outros cinco bens culturais brasileiros, como o frevo e o samba de roda, que já têm o título.



A celebração do bumba meu boi, no Maranhão agora é Patrimônio Cultural Imaterial da Humanidade. O reconhecimento foi dado pela Unesco nesta quarta (11) após reunião do Comitê Intergovernamental para a Salvaguarda do Patrimônio Cultural Imaterial, em Bogotá.

O bumba meu boi passa a ser reconhecido mundialmente depois de ter ganhado, em 2011, o título de Patrimônio Cultural do Brasil, pelo Instituto do Patrimônio Histórico e Artístico Nacional (Iphan). Foi o Iphan, inclusive, que elaborou a candidatura da festa maranhense.

UOL.com.br

01. No trecho *O bumba meu boi passa a ser reconhecido mundialmente depois de ter ganhado, em 2011, o título de Patrimônio Cultural do Brasil, pelo Instituto do Patrimônio Histórico e Artístico Nacional (Iphan)*, a sigla do Instituto aparece entre parênteses. Nesse caso, a escrita da sigla nos parênteses se justifica porque:

- A é exigência convencional da mídia escrita.
- B é empregada novamente ao longo do texto.
- C aponta o responsável oficial pelo título conferido.
- D economiza espaço gráfico em futuras referências.
- E se trata de uma instituição nacionalmente conhecida.

02. Conforme o texto, o título de Patrimônio Cultural Imaterial da Humanidade que a Unesco

concedeu à festa maranhense confere a essa expressão artística:

- A ineditismo no cenário nacional.
- B visibilidade em âmbito internacional.
- C validade como expressão da cultura popular.
- D singularidade entre os bens culturais brasileiros.
- E influência como elemento aglutinador de culturas.

Texto II (Questões 03 e 04)

Fácil
 É fácil cair
 Cair dos céus
 Das alturas
 É tão fácil cair
 No chão
 No abismo
 No inferno
 Até no inferno
 Em teus braços
 É fácil cair.

Carlos Henrique Nery Costa

03. Constata-se no poema grande musicalidade, marcada principalmente na exploração sistemática de vogais e consoantes idênticas. Relacionada à questão da fonologia portuguesa, a afirmação que justifica o exemplo transcrito ocorre:

- A em “cair” (v. 01), há ditongo decrescente oral.
- B em “inferno” (v. 07), há apenas três fonemas consonantais.
- C em “chão”, ocorrem encontro consonantal e ditongo decrescente nasal.
- D em “fácil” (v. 01), do ponto de vista fonológico, ocorre ditongo decrescente.
- E em “abismo” (v. 06) e “Em” (v. 09), a letra m representa o mesmo fonema consonantal.

04. O poema, mediante versos branco e livre, com a forma de um movimento vertical, explora a ideia de instabilidade e facilidade à queda. Esse movimento descensional remete, sobretudo, à:

- A fragilidade humana.
- B luta pela afirmação social.
- C inexorabilidade do destino.
- D harmonia da trajetória humana.
- E potência humana de transformar o espaço.

Texto III (Questão 05)

Infância

Meu pai montava a cavalo, ia para o campo.
Minha mãe ficava sentada cosendo.
Meu irmão pequeno dormia.
Eu sozinho menino entre mangueiras
lia a história de Robinson Crusóé,
comprida história que não acaba mais.
[...]

Carlos Drummond de Andrade

05. As formas verbais negritadas no texto estão no pretérito imperfeito do modo indicativo. Quanto ao aspecto relativo ao tempo, essas formas, no contexto do poema, exprimem:

- A início de uma ação verbal
- B fatos hipotéticos no tempo.
- C ações concluídas, acabadas.
- D fatos vistos em seu momento final.
- E ações que ocorriam de modo rotineiro.

Texto IV (Questão 06)

Certa ocasião, um jornal deu a seguinte recomendação aos estudantes que, em uma prova de vestibular, deveriam produzir um texto dissertativo na prova de redação:

Como escrever

Olho vivo para não maltratar o português. Preste atenção ao enunciado. Se fugir do tema, copiar o texto apresentado ou fazer uma narração (relato de uma história), a redação será anulada.

Emília Amaral

06. No texto, os verbos “fugir” e “copiar” estão flexionados na 3ª pessoa do singular do:

- A infinitivo pessoal.
- B futuro do subjuntivo.
- C futuro do presente do indicativo.
- D futuro do pretérito do indicativo.
- E pretérito imperfeito do subjuntivo.

Texto V (Questões 07 e 08)

A catinga estendia-se, de um vermelho indeciso salpicado de manchas brancas que eram ossadas. O voo negro dos urubus fazia círculos altos em redor de bichos moribundos.

— Anda, excomungado.

O pirralho não se mexeu, e Fabiano desejou matá-lo. Tinha o coração grosso, queria responsabilizar alguém pela sua desgraça. A seca aparecia-lhe como um fato necessário – e a obstinação da criança irritava-o. Certamente esse obstáculo miúdo não era culpado, mas dificultava a marcha, e o vaqueiro precisava chegar, não sabia onde.

Tinham deixado os caminhos, cheios de espinhos e seixos, fazia horas que pisavam a margem do rio, a lama seca e rachada que escaldava os pés.

Pelo espírito atribulado do sertanejo passou a ideia de abandonar o filho naquele descampado. Pensou nos urubus, nas ossadas, coçou a barba ruiva e suja, irresoluto, examinou os arredores. Sinha Vitória estirou o beijo indicando vagamente uma direção e afirmou com alguns sons guturais que estavam perto. Fabiano meteu a faca na bainha, guardou-a no cinturão, acocorou-se, pegou no pulso do menino, que se encolhia, os joelhos encostados ao estômago, frio como um defunto. Aí a cólera desapareceu e Fabiano teve pena. Impossível abandonar o anjinho aos bichos do mato. Entregou a espingarda a Sinha Vitória, pôs o filho no cangote, levantou-se, agarrou os bracinhos que lhe caíam sobre peito, moles, finos como cambitos. Sinhá Vitória aprovou esse arranjo, lançou de novo a interjeição gutural, designou os juazeiros invisíveis.

E a viagem prosseguiu, mais lenta, mais arrastada, num silêncio grande.

Graciliano Ramos

07. O fato de o texto ser literário autoriza substituir palavras nele presentes por sinônimos adequados ao sentido contextual e ao registro literário. Por exemplo, em e a *obstinação da criança irritava-o* (3º parágrafo), a palavra sublinhada poderá ser substituída, sem prejuízo do sentido, por:

- A intumescia.
- B vulgarizava.
- C exasperava.
- D recrudescia.
- E exacerbava.

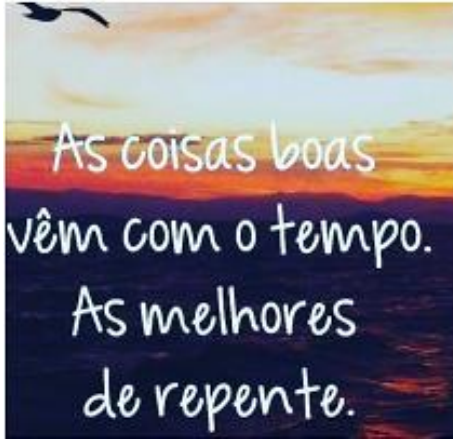
08. Em *O pirralho não se mexeu* (3º parágrafo), tem-se exemplo de voz verbal _____ (I), cuja palavra SE, _____ (II), atua sintaticamente como _____ (III). Para que a descrição morfossintática dessa frase fique correta, as lacunas I, II e III, devem ser preenchidas, respectivamente, com

- A reflexiva, pronome reflexivo e objeto direto.
- B reflexiva, pronome apassivador e objeto direto.
- C ativa, índice de indeterminação do sujeito e sujeito.

D ativa, partícula expletiva ou de realce e objeto indireto.

E passiva sintética, pronome apassivador e objeto indireto.

Texto VI (Questão 09)



09. No texto, constata-se certo teor de otimismo na divisão das coisas entre boas e melhores: _____ aparecem com o decorrer do tempo; _____, repentinamente. Se a coesão dessa frase se fizer por meio de pronomes demonstrativos, em obediência às normas da língua padrão, serão empregados, respectivamente, os pronomes

- A aquelas – estas.
- B aquelas – essas.
- C estas – aquelas.
- D essas – estas.
- E estas – essas.

Texto VII (Questão 10)

O Casaco

Um homem estava anoitecido.
Se sentia por dentro um trapo social.
Igual se, por fora, usasse um casaco rasgado e sujo.
Tentou sair da angústia.
Isto ser:
Ele queria jogar o casaco rasgado e sujo no lixo.
Ele queria amanhecer.

Manuel de Barros

10. Derivação é importante processo de criação lexical que consiste na formação de uma nova palavra mediante, normalmente, o acréscimo de um afixo. Dos seis tipos de derivação existentes na língua portuguesa, quatro formam-se por

acréscimo de afixo, caso de amanhecer (v. 09), que se formou por:

- A derivação sufixal.
- B derivação prefixal.
- C derivação regressiva.
- D derivação parassintética.
- E derivação prefixal e sufixal.

11. A oração com valor de adjetivo encontra-se em destaque, no item:

- A ... hoje quase todo mundo acredita que entende desse núcleo ...
- B Isso significa que pertencer a uma família, com todos os bônus e ônus impostos, é essencial.
- C Elas sentem na pele a importância de pertencer a um grupo e buscam criá-lo, ...
- D A família precisa ser cuidada porque sobrevive dos vínculos afetivos entre todos os seus integrantes, ...
- E Mesmo essas pessoas procuram formar sua família fora dos laços tradicionais, que são os de sangue e os de aliança.

12. Em: “Elas sentem na pele a importância de pertencer a um grupo e buscam criá-lo, já que enfrentaram impedimentos radicais em sua família de origem”. O segmento gramatical em destaque confere à oração por ele iniciada a ideia de:

- A comparação.
- B finalidade.
- C causa.
- D concessão.
- E conformidade.

Raciocínio Lógico e Matemática Básica

13. A diretoria da empresa JJSS é composta de 10 diretores. De quantas maneiras diferentes se podem escolher 5 deles para compor uma comissão com Presidente, Vice-presidente e três supervisores?

- A 30.240.
- B 5.040.
- C 2.520.
- D 252.
- E 15

14. Uma pirâmide de 15 cm de altura tem por base um hexágono regular. Um plano paralelo à base secciona essa pirâmide a 5 cm do vértice,

determinando na pirâmide uma seção de área 20 cm². Qual o volume do tronco de pirâmide obtido?

- A 900 cm³
- B 800/3 cm³
- C 2300/3 cm³
- D 2500/3 cm³
- E 2600/3 cm³

15. Gráficos matemáticos são excelentes ferramentas para análise de duas ou mais variáveis. Ajudam a visualizar e analisar os resultados para tomadas de futuras decisões. Uma indústria contratou um Matemático para fazer essas análises gráficas. Nessa indústria são produzidos e comercializados dois tipos de determinado produto, A e B. A quantidade e o valor de venda desses produtos se relacionam pelas seguintes funções quadráticas:

$$f_A(x) = x^2 - 4x + 5 \text{ e } f_B(x) = -x^2 + 4x + 5$$

Com o seguinte destaque: x: é a quantidade produzida f(x): é o valor de venda. Esse Matemático, então, criou uma região delimitada por essas funções e a denominou de receita total. Quantas coordenadas de números inteiros existem nessa região?

- A 18.
- B 17.
- C 16.
- D 15.
- E 14.

16. Os números terminados em 1, 3, 5, 7 e 9 são chamados de ímpares. Todo número ímpar, quando dividido por 2, deixa resto igual a 1. Os números terminados em 0, 2, 4, 6 e 8 são chamados de pares. Os números pares, quando divididos por 2, deixam resto 0. Quantos números pares de algarismos distintos existem entre 1.000 e 20.000?

- A 3976.
- B 4200.
- C 4376.
- D 5432.
- E 5600.

17. Ximenes, Yure e Zeca são três pintores. Juntos, Ximenes e Yure executam certo serviço em 6 horas; Ximenes e Zeca levam 8 horas para realizar o mesmo trabalho e, também juntos, Yure e Zeca necessitam de 12 horas para executá-lo. Se

Ximenes fosse fazer esse serviço sozinho, ele levaria, então:

- A 48h.
- B 24h.
- C 16h.
- D 12h.
- E menos de 10h.

18. Os números naturais surgiram da necessidade humana de contar e de ordenar. Os números inteiros são formados pelos naturais, os naturais acrescidos do sinal negativo e o zero, ou seja, são compostos de valores positivos, negativos e do zero. Números que podem ser escritos na forma de fração, com numerador e denominador inteiros e denominador diferente de zero, são chamados de números racionais. Números que têm infinitas casas decimais e não são periódicos são chamados de números irracionais. A união entre o conjunto dos números racionais e o conjunto dos números irracionais forma o conjunto dos números reais. Assim, levando-se em conta essas afirmações, é CORRETO afirmar que:

- A o conjunto $A = \{1, 2, 3\}$ é fechado em relação à adição.
- B os números naturais são fechados em relação à subtração.
- C o número $2 + \sqrt{3}$ é racional.
- D todo número natural, diferente de 1, pode ser decomposto em fatores primos de modo único, a menos da ordem dos fatores.
- E o número 173290 tem 34 divisores naturais.

19. Qual das sentenças abaixo é uma sentença aberta?

- A Paulo é inteligente.
- B Se Marcos é teresinense, então Marcos é piauiense.
- C João fala inglês ou francês.
- D $x + 2 = 5$, onde x é um número inteiro.
- E Para todo x inteiro, $x + 2 = 5$.

20. Qual das proposições seguintes é equivalente a “Se Cássia nasceu em Capitão de Campos, então Cássia é piauiense”?

- A Cássia nasceu em Capitão de Campos e é piauiense.
- B Cássia nasceu em Capitão de Campos ou é piauiense.
- C Cássia não nasceu em Capitão de Campos e é piauiense.

D Se Cássia não é piauiense, então Cássia não nasceu em Capitão de Campos.
E Cássia nasceu em Capitão de Campos e não é piauiense.

21. A negação da proposição “Se a maré estiver baixa, então irei a praia” é dada por:

- A Se a maré estiver baixa, então não irei a praia.
- B A maré estava baixa e não fui a praia.
- C A maré estava baixa e fui a praia.
- D Não é verdade que a maré estava baixa e fui a praia.
- E Vou à praia quando a maré está baixa.

22. Em uma festa de Natal (em que as pessoas se cumprimentam), cada pessoa cumprimenta exatamente outras três pessoas.

- I – É possível que na festa tivessem 2.019 pessoas?
- II – Se foram totalizados 3.030 cumprimentos, quantas pessoas havia na festa?

De acordo com as perguntas I e II acima, marque a alternativa CORRETA abaixo:

- A I) Sim; II) 2.020
- B I) Não; II) 3.030
- C I) Sim; II) 2.019
- D I) Não; II) 2.019
- E I) Não; II) 2.020

Conhecimentos Gerais

23. A crise macroeconômica denominada “Efeito Elon Musk” tem levado gigantes de tecnologia como Google, Meta e Microsoft a demitir em massa seus quadros de funcionários. Estima-se que, de outubro de 2022 até janeiro de 2023, pelo menos de 51 a 70 mil trabalhadores teriam sido impactados por esses cortes. Assinale a afirmativa que identifica corretamente uma causa dessa ocorrência:

- A As empresas de tecnologia vivem um período de desaceleração do crescimento, em função de uma conjuntura econômica internacional recessiva, com a adoção de políticas de juros baixos pelos principais bancos centrais.
- B A recuperação do cenário macroeconômico nos Estados Unidos elevou o índice de competitividade do mercado digital, o que levou as Big Techs a diminuir os próprios custos funcionais para enfrentar a concorrência.

C O segmento cresceu de forma acelerada durante a pandemia, em função das novas necessidades geradas pelos lockdowns, e agora enfrenta o desafio da contração pela reabertura da economia.

D A guerra na Ucrânia e a desorganização das cadeias de suprimentos globais geraram uma crise de abastecimento de semicondutores, o que reduziu o setor de eletroeletrônicos e levou à queda das ações das Big Techs, gerando o encolhimento das empresas.

E As principais empresas de tecnologia contrataram em excesso durante a pandemia, apostando na digitalização do trabalho, dos serviços e do comércio, tendência que foi revertida em 2022, obrigando o setor a demitir os funcionários excedentes.

24. Nas últimas décadas, o noticiário internacional no ocidente foi ocupado por manchetes que assinalaram a emergência de um polêmico fenômeno político: a ascensão de grupos extremistas. Tais organizações geralmente se consolidam em regiões de minorias excluídas, dentro de países que até hoje são ditaduras, monarquias absolutistas e com histórico de violação dos Direitos Humanos. Em comum, esses grupos têm o fundamentalismo religioso, baseado em uma interpretação radical da lei islâmica. Eles são a origem de outras células terroristas e também formam alianças ou dão apoio institucional uns aos outros. Sobre as origens, características e atuação dos grupos extremistas no mundo é CORRETO afirmar que:

A O Boko Haram significa “a educação ocidental é pecaminosa” em hausa, língua mais falada no norte da Nigéria. Também se autodenomina Grupo do Povo Sunita para a Convocação e a Jihad ou Talibã Nigeriano. Seu objetivo é destituir o atual governo nigeriano e criar outro baseado nas leis islâmicas. Para o Boko Haram, os valores ocidentais são a fonte de todos os males sofridos pelo país.

B A Al Qaeda nasceu dos escombros da guerra fria no Afeganistão no final da década de 80. Seus objetivos baseavam-se na edição de uma “fatwa”, espécie de decreto religioso, divulgada por Bin Laden em 1998, com o fim de unificar todos os muçulmanos para criar uma grande nação islâmica no Cáucaso e destruir a Rússia, herdeira do mundo soviético.

C O Isis ou Daesh, como também é conhecido o Estado Islâmico, atua com uma forte estratégia de propaganda, arregimentando jihadistas xiitas do mundo inteiro para, segundo o próprio grupo, restaurar a ordem de Deus na Terra e defender a comunidade muçulmana contra infiéis. Pretende criar um califado na Arábia Saudita e baseado na interpretação radical da sharia, a lei islâmica.

D O Taliban nasceu em meados dos anos 90 em meio à guerra civil no Paquistão entre as diferentes facções que tinham combatido os ocupantes soviéticos. Tem por objetivo retomar o poder no Paquistão, país que governou com mão de ferro entre 1996 e 2001. É responsável pela maioria dos ataques que ocorrem no vizinho Afeganistão contra a minoria curda.

E O Al Shabaab é um grupo ligado à Al Qaeda criado com o objetivo de transformar o Sudão do Sul, que enfrenta uma guerra civil, em um estado fundamentalista islâmico governado com base na sharia. Atua também no Mali, Níger e Sudão, onde ganhou notoriedade, ao praticar atentados terroristas em parques temáticos e shoppings centers.

25. Em plebiscito histórico, os britânicos decidem deixar a União Europeia, abrindo um período de incertezas para o país e para o maior bloco econômico do planeta. O resultado final foi apertado, com uma diferença de menos de 4% em favor do Brexit, uma contração das palavras “Britain” e “exit”, algo como “saída britânica” em inglês. Sobre a conjuntura atual da União Europeia e a saída britânica do bloco é CORRETO afirmar que:

A A saída de um país membro do bloco não é um fato inédito, já tendo ocorrido com a Sérvia em um processo de ruptura que durou dois anos.

B Com a saída britânica o bloco passará a contar com 27 países, dos quais 8 compõem a zona do Euro, ou seja, compartilhando a moeda única.

C Para os partidários da saída do Reino Unido os imigrantes representam uma concorrência em um mercado de trabalho saturado.

D Os eurocéticos, composto basicamente por líderes sindicais e demais movimentos sociais, configuraram o principal grupo de oposição ao Brexit.

E O Brexit não afetará os acordos comerciais unilaterais do Reino Unido com o bloco, nem as exportações e empregos gerados pela cadeia produtiva.

26. Após mais de duas décadas de discussão e do fracasso do Protocolo de Kyoto, as nações do mundo conseguiram construir um acordo de consenso global para adotar medidas que reduzam as consequências negativas sobre o clima e a vida no planeta. Trata-se do Acordo de Paris (COP – 21), assinado por 195 países-membros da Convenção das Nações Unidas sobre Mudança do Clima, realizada em dezembro de 2015. Apesar do aparente sucesso da conferência, o acordo não foi imune a críticas de ambientalistas e de parte da comunidade científica. Com relação às discussões

e desdobramentos da COP-21, assinale a alternativa CORRETA:

A O acordo de Paris prevê o apoio financeiro aos países em desenvolvimento para frear suas emissões de gases estufa, mas condicionou a liberação dos recursos ao cumprimento de uma agenda de modernização e liberalização dos estados nestes países.

B Os relatórios dos cientistas vinculados à ONU, originalmente destinados a orientar os formuladores de políticas públicas para o estabelecimento de estratégias de contenção das emissões de gases, foram omissos quanto à vulnerabilidade dos ambientes costeiros.

C A principal crítica ao Acordo de Paris é que o conjunto das metas nacionais somadas para a redução de emissões de gases estufa, além de consideradas insuficientes para barrar o sobreaquecimento médio de em até 2°C, são voluntárias.

D O Protocolo de Kyoto tinha caráter impositivo, definindo rígidas metas para os países signatários e criando grandes óbices ao crescimento econômico dos países desenvolvidos. Apesar do apoio incondicional dos EUA, Kyoto pouco contribuiu para a redução das emissões.

E Para atingir os objetivos previstos pelo Acordo de Paris e evitar terríveis consequências, será preciso promover uma reviravolta energética, diminuindo nossa dependência dos combustíveis fósseis, principalmente nas nações subdesenvolvidas, as maiores poluidoras.

27. Um dos maiores desastres ambientais do Brasil completou três anos no início de 2022. O rompimento da barragem da mina Córrego do Feijão, em Brumadinho (MG), provocou a morte de mais de 270 pessoas e uma série de danos ambientais imensuráveis. O rompimento da barragem despejou 12 milhões de metros cúbicos de rejeitos de mineração na bacia do rio Paraopeba. A lama percorreu mais de 300 km, afetando 18 municípios e atingindo 944 mil pessoas [...] (Andes.org) Em relação ao trecho acima, assinale a alternativa correta:

A Os metais pesados encontrados no meio hídrico logo após o rompimento da barragem não têm efeitos na bioacumulação ao longo da cadeia alimentar

B O impacto ambiental do desastre é homogêneo em toda a área, ou seja, todas as populações, tais como mamíferos, aves, peixes e espécies vegetais, foram igualmente impactadas em relação aos níveis de intensidade

C A recuperação do leito do rio é um processo lento e gradativo. Duas alternativas possíveis consistem no desassoreamento e na biorremediação

D A lama que atinge os ambientes aquáticos causa a mortandade imediata de peixes em decorrência do excesso de oxigênio dissolvido, causando eutrofização e alterando o pH do curso d'água

E Não ocorreu o assoreamento dos rios da área adjacente, exclusivamente, de lançamento de partículas sólidas no leito hídrico, o que não foi o caso

28. Após a Rússia ter invadido a Ucrânia, Suécia e Finlândia decidiram aderir à OTAN (Organização do Tratado do Atlântico Norte). No entanto, um dos países membros com poder de voto está dificultando a entrada desses dois países na referida organização internacional. Assinale a alternativa que apresenta o nome de tal país:

- A Grécia.
- B Turquia.
- C Índia.
- D Paquistão.
- E Polônia

Conhecimentos Regionais do Estado do Piauí

29. Marque a opção CORRETA referente às duas massas de ar predominantes que definem os regimes de precipitação do estado do Piauí:

- A Equatorial atlântica e Equatorial continental.
- B Equatorial atlântica e Tropical atlântica.
- C Equatorial continental e Polar atlântica.
- D Equatorial atlântica e Tropical continental.
- E Tropical continental e Tropical atlântica.

30. "Este Parque Nacional localizado no Piauí foi eleito um dos destinos que viajantes precisam conhecer este ano pelo "The New York Times". O principal jornal dos EUA publicou nesta segunda (10/01/2022) sua tradicional lista anual, mas sob uma nova perspectiva — com um mundo impactado pelas mudanças climáticas, estes são os pontos em que a visita dos turistas pode ajudar a solucionar problemas do meio ambiente e não agravá-los, através do fomento de iniciativas de preservação e pesquisa" (UOL.com.br) Marque a opção CORRETA que indica o nome do Parque Nacional referido no fragmento de texto acima, que resguarda uma importante herança histórica da humanidade em seus sítios arqueológicos, e onde

pesquisadores já encontraram vestígios de humanos primitivos de mais de 20 mil anos.

- A Parque Nacional de Ubajara.
- B Parque Nacional de Sete Cidades.
- C Parque Nacional Serra das Confusões.
- D Parque Nacional do Itatiaia.
- E Parque Nacional Serra da Capivara.

31. "Desde meados do século XX, [o maior rio localizado totalmente território brasileiro], enquanto importante recurso natural do Nordeste do Brasil e de parte do estado de Minas Gerais, passa, de maneira mais intensa e desordenada a sofrer fortes intervenções por parte do Estado a partir do uso de suas águas para geração de energia elétrica e de vários outros empreendimentos necessários à execução do projeto de industrialização e urbanização brasileiro" (Claudio Ubiratan Gonçalves). Marque a opção CORRETA que indica o nome do rio referido no fragmento de texto acima:

- A Parnaíba.
- B São Francisco.
- C Itapecuru.
- D Jaguaribe.
- E Capibaribe.

32. Em Seca Seculorum, flagelo e mito na economia rural piauiense, Manuel Domingos Neto e Geraldo Almeida Borges (1983), ao tratarem da intervenção produzida pelo Poder Público na zona "flagelada pela seca" afirmaram que: Trata-se de uma intervenção bastante antiga e que se caracterizou pela insistência em determinadas práticas de efeitos sociais marcadamente negativos. Se não deteve os "efeitos da seca" passou a fazer parte integrante das condições objetivas em que essa emergência. Como saldo, essa intervenção não ofereceu exatamente uma redução nas proporções do fenômeno, mas, sim, sua perpetuação, mesmo que com roupagem levemente retocada. (Manuel Domingos Neto e Geraldo Almeida Borges) Sobre a intervenção do Estado ante a seca no Nordeste/Piauí, os autores afirmam que:

A as políticas do Departamento Nacional de Obras contra a Seca (DNOCS) e da Superintendência do Desenvolvimento do Nordeste (SUDENE) voltaram-se para questões relativas à sociedade e economia locais, afastando-se das causas naturais, em que propostas de enfrentamento do fenômeno teriam maior possibilidade de sucesso.

B a grande quantidade de açudes construídos no Piauí pelo DNOCS, até o final da década de 1960, evidencia que, nesse período, existia uma política governamental permanente e assentada em critérios estratégicos e definidos conforme as necessidades e características dessa região.

C a corrupção e uma variedade de dificuldades técnico-operacionais, apontadas nos relatórios governamentais sobre a implementação dos programas de combate à seca no Nordeste, foram, segundo os pesquisadores supracitados, utilizados como fundamentos sólidos para combater a “concepção hidráulica” de solução do fenômeno no Nordeste.

D a construção de açudes, cercas, aguadas, barreiros, bem como a realização de desmatamentos e a abertura e conservação de estradas no Nordeste, sempre estiveram relacionadas à criação das “frentes de serviço”, estratégia positiva de retenção da mão de obra nos contextos de crise, com benefícios sobretudo para a grande propriedade.

E no Piauí a intervenção do Estado na crise da “seca” contribuiu para permanência de uma população significativa da pequena e média propriedade, em face de medidas de implantação de assentamentos rurais que minimizaram os efeitos do intenso processo de concentração da posse da terra .

33. Há muito que a posição geográfica do Piauí havia despertado atenção do Governo de Lisboa para o caso de uma emergência. Prevendo que a independência do Brasil seria apenas uma questão de tempo, é opinião de abalizados historiadores que o governo português planejara ficar com uma parte para ele, isto é, o norte, recriando o Estado do Maranhão que compreenderia as Províncias do Pará, do Maranhão e do Piauí. (Monsenhor Chaves) No processo de independência do Brasil, o domínio do território piauiense era estratégico, pois:

A sua posição geográfica favorecia a navegação do norte para Portugal, reduzindo o tempo de viagem em relação à saída pelo Pará ou Pernambuco. Porém, a rota encontrava obstáculos nos ventos contrários e/ou nas calmarias das viagens por mar para a Europa.

B tinha uma comunicação direta por terra com o Ceará, a Bahia e com Pernambuco, onde os movimentos de independência estavam muito fortes. Sendo o Piauí um fornecedor de carnes, para essas Províncias, dominá-lo era estratégico para contenção dos grupos rebeldes.

C em Parnaíba existia uma fábrica de pólvora, produzida de contrabando, que poderia ser utilizada para abastecer a resistência do norte, caso fosse necessário o enfrentamento do movimento pró independência nessa parte do Brasil.

D a província estava tranquila, sem a penetração de ecos do que acontecia lá fora. A população letrada defendia fortemente a Constituição portuguesa, sem ocorrência de fatos subversivos.

E as rendas nacionais da Província, obtidas nas exportações do algodão, couro de sola, carne verde e frutos do mar representavam grande numerário para a Coroa, pois, sendo cobradas de forma rigorosa, davam-lhe uma renda líquida correspondente a 80% do rendimento bruto.

34. Aguapés cobrem Rio Poti, em Teresina, e ambientalista alerta sobre os impactos ambientais:

A pela poluição do rio por materiais orgânicos que se concentram por conta da sua baixa vazão no período de baixa pluviosidade.

B pelo lançamento de poluentes industriais no rio, em quantidade superior à capacidade do corpo hídrico de absorção dessas impurezas.

C pelos poluentes lançados no rio associados ao calor e luminosidade comuns nos meses de agosto a dezembro.

D pela baixa vazão do rio no período da estiagem, o que proporciona a colonização da superfície de suas águas por essas plantas.

E pelas condições naturais do rio Poti, propícias ao desenvolvimento de flora aquática, tanto superficial quanto submersa.

Noções de Informática

35. Com relação aos conceitos sobre Internet, assinale a única alternativa INCORRETA:

A A combinação de teclas Ctrl e P (Ctrl+P) possibilita a impressão de páginas nos navegadores Web.

B URL (UniformResourceLocator) é o endereço de um recurso disponível na internet. Neste endereço não é possível identificar a natureza ou a localização do recurso.

C Site é uma coleção de páginas web, isto é, de documentos acessíveis através da internet.

D Navegador Web é um programa que tem a capacidade de exibir páginas armazenadas em servidores Web.

E A URL <http://www.teresina.pi.gov.br/> é um exemplo de endereço eletrônico de um órgão governamental brasileiro.

36. Considerando a utilização da planilha eletrônica Microsoft Office Excel 2019, configuração padrão, idioma Português-Brasil, sobre funções na planilha

eletrônica, marque V para as afirmativas verdadeiras e F para as falsas.

- () REPT: pode ser utilizada para repetir um texto por um determinado número de vezes, utilizando, para isso, dois parâmetros.
 () MÁXIMO: pertence à categoria de funções estatísticas; é utilizada para retornar o valor máximo em uma lista de argumentos.
 () ABS: retorna o valor absoluto de um número, utilizando, para isso, um parâmetro com o número e outro com a quantidade de casas decimais a serem utilizadas.
 () INT: arredonda um número para cima até o número inteiro mais próximo.

A sequência está correta em:

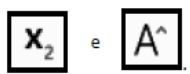
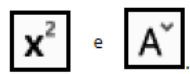


- A V, V, F, F.
 B V, F, F, V.
 C F, V, V, F.
 D F, F, V, V.
 E Nenhuma das alternativas anteriores

37. No uso dos recursos do Word 2019 BR, observe os descritos a seguir:

I – Por meio da guia “Layout” da Faixa de Opções, é possível configurar um documento digitado, a título de “Orientação”, de dois modos.

II – Paralelamente, um ícone deve ser acionado para aplicar subscrito a uma seleção, enquanto que outro tem por objetivo aumentar o tamanho da fonte empregado na digitação de um texto.

Nessas condições, os modos referenciados em I e os ícones caracterizados em II são, respectivamente:

- A retrato e paisagem, 
 B retrato e paisagem, 
 C vertical e horizontal, 
 D vertical e horizontal, 

38. Sobre noções de hardware, considere as afirmações a seguir.

I – A unidade de medida do processador ou CPU é o Hertz (Hz), atualmente esta unidade de medida

pode atingir uma frequência na ordem de bilhões de ciclos por segundo. Por exemplo: Um processador de 2 GHz equivale a 2 bilhões de ciclos por segundo;

II – O teclado é considerado um dispositivo de entrada e possui diversos formatos e layouts. O layout QWERTY é muito popular e o nome faz referência às seis primeiras letras da primeira fileira de letras do teclado alfanumérico;

III – O monitor caracteriza-se por ser o principal dispositivo de saída de um microcomputador. São diversas as tecnologias de monitores como por exemplo: CRT, LCD, OLED. Contudo, um monitor pode ser também um disposto de entrada caso esse seja dotado da tecnologia Touchscreen;

IV – Uma impressora é um periférico de saída, entretanto a impressora conhecida como multifuncional é um dispositivo de entrada e de saída. Isso só é possível em virtude da junção dos periféricos de saída impressora e de entrada scanner, que resulta na chamada impressora multifuncional.

Está CORRETO apenas o que se afirma em:

- A I, II, III e IV.
 B I, II e IV, apenas.
 C I, II e III, apenas.
 D III e IV, apenas.
 E I, III e IV, apenas.

39. Na formatação de um disco, ocorre uma preparação para que o sistema de arquivos consiga manipular arquivos e pastas (diretórios). Sobre esta preparação, escolha a alternativa CORRETA em relação às afirmações abaixo:

I – No Microsoft Windows, o sistema de arquivos para gerenciar pastas pode ser o NTFS;

II – Os discos são divididos em trilhas e setores;

III – Uma pasta não pode ficar vazia, sendo obrigatória a existência de um ou mais arquivos.

- A I é verdadeira.
 B II é verdadeira.
 C III é verdadeira.
 D I e II são verdadeiras.
 E Todas estão erradas.

40. Os dispositivos de armazenamento secundário permitem a gravação de dados, de forma que possamos acessá-los, mesmo após desligar o computador. Qual a alternativa CORRETA sobre o armazenamento em SSD?

A Esse tipo de memória não substitui o HD, sendo usado no lugar da memória RAM.

B Torna operações de acesso aos dados e a inicialização do sistema operacional, mais rápida.

C Não é considerada memória secundária, sendo volátil.

D Para usar o SSD é obrigatório retirar o HD por falta de compatibilidade.

E A sigla em Inglês significa Armazenamento em Secundário Direto.

Legislação Institucional

41. Considerando o disposto no Estatuto da Polícia Civil do Estado do Piauí sobre o Conselho Superior de Polícia Civil, assinale a alternativa CORRETA:

A Ao Conselho Superior da Polícia Civil compete, entre outras atribuições, deliberar sobre as matrículas nos cursos de formação da Academia de Polícia, com base no resultado da investigação sobre a vida dos candidatos.

B São membros natos do Conselho Superior de Polícia Civil: o Governador do Estado, o Presidente do Tribunal de Justiça, o Delegado-Geral e o Corregedor-Geral de Polícia.

C Para integrar o Conselho Superior de Polícia Civil, são eleitos 04 (quatro) representantes dos policiais civis, com os respectivos suplentes, indicados por suas entidades sindicais representativas, com mandato de 04 (quatro) anos, admitida uma recondução.

D As manifestações do Conselho Superior da Polícia Civil serão aprovadas por maioria absoluta, exceto nas hipóteses de remoção de policial, por interesse público, em que se exigirá 3/4 (três quartos) dos votos de seus membros.

E Perde automaticamente o mandato o conselheiro eleito que faltar, sem justificativa, a 5 (cinco) sessões plenárias consecutivas ou a 8 (oito) intercaladas por ano de exercício.

42. A Lei nº 3.729, de 27/5/1980, regulamenta o Conselho de Disciplina da Polícia Militar e Corpo de Bombeiro do Estado do Piauí. Com fundamento nessa norma, assinale a alternativa CORRETA:

A Conselho de Disciplina destina-se legalmente a apreciar a incapacidade dos seguintes Policiais Militares: Subtenentes, Sargentos, Cabos e Soldados da Polícia Militar (ou Corpo de Bombeiros) do Estado do Piauí, sem estabilidade assegurada, para permanecerem na ativa, bem como Praças reformados ou na reserva remunerada, de permanecerem na situação de inatividade em que se encontram, criando-

lhes, ao mesmo tempo, condições para se defenderem.

B O Conselho de disciplina poderá funcionar com a maioria de seus membros, em local que seu Presidente julgar melhor indicado, para apuração do fato.

C Ao investigado serão assegurados ampla defesa e contraditório, tendo, após o interrogatório, prazo de 30 (trinta) de dias para oferecer razões, por escrito, devendo o conselho de disciplina fornecer-lhe o libelo acusatório.

D Prescrevem-se em seis 06 (seis) anos, contados da data em que foram praticados, os casos previstos na Lei nº 3.729/1980.

E No caso de a decisão do Comandante Geral ser pela reforma do praça, a reforma será efetuada no grau hierárquico imediatamente superior que tal praça tem na ativa, com proventos integrais, garantindo-se o direito à isonomia.

43. Assinale a alternativa que apresenta todas as graduações de Praças previstas na Lei nº 5.459/2005/Estado do Piauí, que dispõe sobre a criação de Quadros de Oficiais e de Praças no Corpo de Bombeiros Militar do Estado do Piauí:

A Soldado, cabo, sargento, subtenente e aspirante a oficial.

B Soldado, cabo, sargento e subtenente.

C Soldado, cabo, 3º sargento, 2º sargento, 1º sargento, subtenente e aspirante a oficial.

D Soldado, cabo, 3º sargento, 2º sargento, 1º sargento e subtenente.

E Soldado, cabo, 3º sargento, 2º sargento, 1º sargento e aspirante a oficial.

44. Com relação à transferência definitiva de Policiais Militares do Estado do Piauí para o Corpo de Bombeiros Militar do Estado do Piauí e de Bombeiros Militares do Estado do Piauí para a Polícia Militar do Estado do Piauí, é correto afirmar que:

A em qualquer caso, se houver vaga para o mesmo posto ou graduação e entre quadros correspondentes nas duas Corporações.

B se a transferência for para o Quadro de Oficiais Bombeiros Militares Combatentes – QOBM/Comb, será exigida a conclusão do Curso de Formação de Oficiais Bombeiros Militares (CFO/BM), realizado em Academia de Bombeiro Militar, independente da apresentação do respectivo histórico escolar.

C se a transferência for para o Quadro de Oficiais Bombeiros Militares de Saúde, será exigida a conclusão do Curso de Formação de Oficiais Bombeiros Militares (CFO/BM), realizado em Academia

de Bombeiro Militar, independente da apresentação do respectivo histórico escolar.

D se a transferência for para o Quadro de Oficiais Bombeiros Militares de Saúde, será exigida a conclusão do Curso de Formação de Oficiais Bombeiros Militares (CFO/BM), realizado em Academia de Bombeiro Militar, além do respectivo histórico escolar.

E se a transferência for para o Quadro de Oficiais Policiais Militares – QOPM, será exigida a conclusão do Curso de Formação de Oficiais Policiais Militares (CFO/PM), realizado em Academia de Polícia Militar, independente da apresentação do respectivo histórico escolar.

45. Segundo a Lei de Promoção de Praças do Corpo de Bombeiros Militar do Estado do Piauí, são membros efetivos da Comissão de Promoção de Praças:

- A 03 oficiais intermediários do Corpo de Bombeiros.
- B 04 oficiais intermediários do Corpo de Bombeiros.
- C 06 oficiais intermediários do Corpo de Bombeiros.
- D 02 oficiais intermediários do Corpo de Bombeiros.
- E 05 oficiais intermediários do Corpo de Bombeiros.

46. Identifique a alternativa CORRETA em relação a Lei nº 5.949, de 17/12/2009, que dispõe sobre a Organização Básica do Corpo de Bombeiros Militar do Estado do Piauí:

- A O Núcleo de Defesa Civil é responsável pelo planejamento e execução de atividades de defesa civil na área de competência da Polícia Militar do Piauí.
- B Ao Núcleo de Controle Interno compete acompanhar a implementação, pelos órgãos e suas unidades administrativas, das recomendações da Procuradoria Geral do Estado, da Controladoria-Geral do Estado e do Tribunal de Contas do Estado.
- C O Centro de Manutenção é o órgão encarregado da manutenção das instalações dos quartéis, viaturas e manutenção de equipamentos de telecomunicações e operacionais do Corpo de Bombeiros e da Polícia Militar do Piauí.
- D O Centro de Suprimento de Material é o órgão encarregado de atender as necessidades básicas da População, inclusive com a distribuição de donativos e água.
- E O Centro de Treinamento Operacional é o órgão encarregado da realização de treinamentos técnicos operacionais de combate à criminalidade e manutenção da ordem.

47. O comportamento policial militar da praça deve ser classificado como “Excepcional” quando:

- A no período de 06 anos de efetivo serviço, não tenha sofrido qualquer punição disciplinar.
- B no período de 04 anos de efetivo serviço, não tenha sofrido qualquer punição disciplinar.
- C no período de 05 anos de efetivo serviço, não tenha sofrido qualquer punição disciplinar.
- D no período de 08 anos de efetivo serviço, não tenha sofrido qualquer punição disciplinar.
- E no período de 03 anos de efetivo serviço, não tenha sofrido qualquer punição disciplinar.

48. De acordo como o art. 143 da Lei Nº 7.725/22 que dispõe sobre o Código de Ética e Disciplina dos Militares do Estado do Piauí, são recursos disciplinares, apenas:

- A O pedido de reconsideração de ato, a queixa e a apelação administrativa disciplinar.
- B A representação, o pedido de reconsideração de ato e a apelação administrativa disciplinar.
- C O pedido de reconsideração de ato e o recurso hierárquico.
- D A representação, a queixa e a apelação administrativa disciplinar.
- E A representação, a queixa, o pedido de reconsideração de ato e apelação administrativa disciplinar.

49. De acordo com a Lei nº 7.772, de 04/04/2022 (Lei de Organização Básica), são considerados Órgãos de Apoio, exceto:

- A Centro de Manutenção (CEMAN)
- B Centro de Suprimento de Material (CSM)
- C Centro de Treinamento Operacional (CTO)
- D Centro de Operações e Comunicações (COC)
- E Núcleo de Defesa Civil (NDC)

50. De acordo com a Lei nº 7.772, de 04/04/2022 (Lei de Organização Básica), os órgãos de execução serão classificados de acordo com a necessidade dos serviços operacionais e administrativos de uma determinada área, sendo considerados para este fim, os seguintes requisitos, exceto:

- A população
- B território de desenvolvimento
- C malha fluvial
- D valor histórico e cultural
- E mapeamento aéreo do Piauí

Noções de Direito

51. De acordo com a Constituição Federal de 1988, NÃO são privativos de brasileiro nato os cargos:

- A da carreira diplomática.
- B de oficial das Forças Armadas.
- C de Ministro de Estado da Defesa.
- D de Presidente do Senado Federal.
- E de Ministro do Superior Tribunal de Justiça.

52. De acordo com a Constituição Federal de 1988, compete aos Municípios:

- A emitir moeda.
- B organizar e prestar, diretamente ou sob regime de concessão ou permissão, os serviços públicos de interesse local, incluído o de transporte coletivo, que tem caráter essencial.
- C instituir regiões metropolitanas, aglomerações urbanas e microrregiões, constituídas por agrupamentos de municípios limítrofes, para integrar a organização, o planejamento e a execução de funções públicas de interesse comum.
- D explorar diretamente, ou mediante concessão, os serviços locais de gás canalizado, na forma da lei, vedada a edição de medida provisória para a sua regulamentação.
- E legislar sobre assunto de interesse regional.

53. Sobre a segurança pública, assinale a alternativa INCORRETA, tendo em vista a Constituição Federal de 1988:

- A Os Municípios poderão constituir guardas municipais destinadas à proteção de seus bens, serviços e instalações, conforme dispuser a lei.
- B A lei disciplinará a organização e o funcionamento dos órgãos responsáveis pela segurança pública, de maneira a garantir a eficiência de suas atividades.
- C Às polícias civis, dirigidas por delegados de polícia de carreira ou por policiais militares nomeados pelo Governador do Estado, cabem, ressalvada a competência da União, as funções de polícia judiciária e a apuração de infrações penais, exceto as militares.
- D Às polícias militares cabem a polícia ostensiva e a preservação da ordem pública; aos corpos de bombeiros militares, além das atribuições definidas em lei, cabe a execução de atividades de defesa civil.
- E A segurança pública, dever do Estado, direito e responsabilidade de todos, é exercida para a preservação da ordem pública e da incolumidade das pessoas e do patrimônio.

54. Assinale a alternativa que NÃO configura o crime de furto qualificado:

- A cometido com destruição ou rompimento de obstáculo à subtração da coisa.
- B praticado com abuso de confiança, ou mediante fraude, escalada ou destreza.
- C realizado com o emprego de chave falsa.
- D praticado mediante concurso de duas ou mais pessoas.
- E realizado contra vítima que está em serviço de transporte de valores.

55. No que tange à imputabilidade, certo é afirmar que se trata de um conjunto de requisitos pessoais que conferem ao indivíduo capacidade para que, juridicamente, lhe possa ser atribuído um fato delituoso. Não excluem a imputabilidade:

- A A menoridade penal
- B O desenvolvimento mental incompleto ou retardado
- C A doença mental
- D A emoção ou a paixão
- E A embriaguez completa, proveniente de caso fortuito ou força maior

56. Sobre a proibição de acúmulo de cargos por servidores públicos, assinale a alternativa CORRETA:

- A É vedada, em qualquer hipótese, a acumulação remunerada de cargos públicos.
- B A acumulação remunerada de cargos públicos é permitida pela Constituição Federal e independe da compatibilidade de horários.
- C É permitida a acumulação remunerada de cargos públicos, quando houver compatibilidade de horários, no caso de dois cargos ou empregos privativos de profissionais de saúde, com profissões regulamentadas.
- D É permitida a acumulação remunerada de três cargos de professor.
- E A proibição de acumular não abrange empresas públicas e sociedades de economia mista.

57. Sobre os poderes da Administração Pública, assinale a alternativa CORRETA:

- A Poder Vinculado é aquele em que o administrador, apesar de subordinado à lei, tem liberdade para atuar de acordo com um juízo de conveniência e oportunidade
- B O Poder Disciplinar tem por finalidade distribuir e escalonar as funções dos órgãos, ordenar e rever a

atuação dos agentes públicos, estabelecendo uma relação de hierarquia.

C O Poder Hierárquico impede a delegação de qualquer atribuição de um órgão a outro, na estrutura da Administração. Por outro lado, é plenamente permitida a avocação, quando o superior hierárquico substitui o subalterno no exercício de suas atribuições.

D O Poder Disciplinar permite à Administração Pública punir e apenar a prática de infrações funcionais dos servidores e de todos os que estiverem sujeitos à disciplina dos órgãos e serviços da Administração, abrangendo as sanções impostas aos particulares.

E O Poder de Polícia tem por objeto condicionar, restringir, frear o exercício de atividade, o uso e gozo de bens e direitos pelos particulares, em razão do interesse da coletividade, tendo por fundamento o princípio da predominância do interesse público sobre o particular.

58. Acerca da Centralização e Descentralização da atividade administrativa, e Administração Pública Direta e Indireta, assinale a alternativa CORRETA:

A A descentralização pressupõe duas pessoas distintas: o Estado e a pessoa que executará o serviço, esta última podendo ser um particular ou uma autarquia, por exemplo.

B Quando o Estado executa suas tarefas diretamente, por meio dos órgãos e agentes integrantes da denominada administração direta, ocorre a descentralização administrativa.

C A descentralização administrativa somente pode ocorrer mediante lei.

D Compõem a Administração Indireta somente as Autarquias e as Fundações Públicas.

E Há Administração Pública, em todos os entes federados, e todos os Poderes da República tem órgãos administrativos; no entanto, não é possível que existam entidades da administração indireta vinculadas a órgãos dos Poderes Legislativo e Judiciário.

59. Em relação aos Militares do Estado do Piauí, conforme a Constituição Estadual, marque a alternativa CORRETA:

A São militares do Estado do Piauí os membros da Polícia Civil, Polícia Militar e Agentes de Trânsito.

B As patentes dos oficiais da Polícia Militar do Estado do Piauí são conferidas pelo Presidente da República.

C É perfeitamente compatível com o cargo de militar do Estado, em efetivo serviço, a filiação a partido político.

D O militar estadual em atividade que aceitar cargo ou emprego público civil permanente perderá o posto e a patente e será considerado indigno.

E São militares do Estado do Piauí os membros da Polícia Militar e do Corpo de Bombeiros Militar.

60. Analise as afirmações a seguir e, com fundamento na Constituição do Estado do Piauí, em relação à Segurança Pública, indique a alternativa CORRETA:

A O Comando da Polícia Militar do Piauí será exercido exclusivamente por oficial da ativa do último posto da própria Corporação, nomeado por ato do Governador, observada a formação profissional para o exercício do comando.

B A Polícia Militar está vinculada, operacionalmente, ao sistema de segurança pública do Estado, devendo seguir as políticas e diretrizes baixadas pela autoridade competente, na execução das atribuições que lhes são próprias.

C A segurança pública, organizada sob a forma de sistema, será coordenada, supervisionada e controlada pelo Secretário de Segurança, Comandante Geral da PM e Delegado Geral da Polícia Civil, com competência em todo o território do estado do Piauí.

D A Polícia Militar está vinculada, apenas administrativamente, ao sistema de segurança pública do Estado, tendo o Comandante Geral da Corporação autonomia para planejar e executar as políticas e diretrizes relacionadas ao policiamento ostensivo.

E À Polícia Militar cabem o policiamento ostensivo e a preservação da ordem pública, além das atribuições definidas em lei e a execução de atividades de defesa civil.

PROVA DISSERTATIVA

- A prova deverá ser feita com caneta esferográfica fabricada em material transparente, de tinta **preta**, com grafia legível, a fim de não prejudicar o seu desempenho quando da correção pela Banca Examinadora, não sendo permitida a interferência e a participação de terceiros;
- A redação deverá ser desenvolvida em, no mínimo, **30 (trinta)** linhas e, no máximo, **40 (quarenta)** linhas;
- A Prova Dissertativa será avaliada na escala de 0 (zero) a 20 (vinte) pontos;
- A fuga completa ao tema proposto é motivo suficiente para que a redação não seja corrigida em qualquer outro de seus aspectos, recebendo nota 0 (zero).

Leia, com atenção, o texto a seguir:

O Brasil registrou 27.839 indenizações pagas por acidentes de trânsito com vítimas fatais entre janeiro e outubro de 2020. O país está entre os dez primeiros com maior número de mortes causadas por acidentes nas ruas, estradas e rodovias.

O Brasil é um dos membros comprometidos com a Década de Ação pela Segurança no Trânsito 2011- 2020 para reduzir em 50% as mortes em acidentes de trânsito para o fim deste ano. De acordo com Ministério da Saúde, o país acompanha de maneira efetiva as intenções do acordo desde 2015, quando as mortes por acidentes de trânsito começaram a reduzir.

Em 2020, os valores mostram inicialmente uma tendência de alta e, embora tenham caído o número de vítimas fatais no momento de maior distanciamento social, em setembro voltaram a aumentar.

Em números relativos, quando começou o projeto no ano 2011, morreram no trânsito 24 pessoas para cada 100 mil habitantes. Conforme o estabelecido se esperava que a taxa baixasse pela metade. Com base nas projeções atuais para o final do ano a taxa de mortalidade seria de 14 óbitos a cada 100 mil habitantes, não chegando à meta fixada, ainda considerando a diminuição da circulação a causa do COVID-19. [...]

Em 2020, 80 pessoas morreram por dia em consequência de acidente de trânsito no país. Disponível em: <https://www.portaldotransito.com.br>

Considerando que o fragmento de texto apresentado tem caráter meramente motivador, redija um texto dissertativo a respeito do seguinte tema: **Medidas para combater a violência no trânsito no Brasil.**

Rascunho

1	
2	
3	
4	
5	
6	
7	
8	
9	
10	
11	
12	
13	
14	
15	
16	
17	
18	
19	
20	
21	
22	
23	
24	
25	
26	
27	
28	
29	
30	
31	
32	
33	
34	
35	
36	
37	
38	
39	
40	

Texto Definitivo

1	
2	
3	
4	
5	
6	
7	
8	
9	
10	
11	
12	
13	
14	
15	
16	
17	
18	
19	
20	
21	
22	
23	
24	
25	
26	
27	
28	
29	
30	
31	
32	
33	
34	
35	
36	
37	
38	
39	
40	

Gabarito Rascunho

01	02	03	04	05	06	07	08	09	10	11	12	13	14	15	16	17	18	19	20
21	22	23	24	25	26	27	28	29	30	31	32	33	34	35	36	37	38	39	40
41	42	43	44	45	46	47	48	49	50	51	52	53	54	55	56	57	58	59	60

Gabarito

Simulado Amostra – Corpo de Bombeiros Militar do Piauí

NÍVEL SUPERIOR

Soldado																			
01	02	03	04	05	06	07	08	09	10	11	12	13	14	15	16	17	18	19	20
D	B	B	A	E	B	C	A	A	D	E	C	B	E	B	A	E	D	D	D
21	22	23	24	25	26	27	28	29	30	31	32	33	34	35	36	37	38	39	40
B	E	C	A	C	C	C	B	A	E	B	D	B	A	B	A	A	A	D	B
41	42	43	44	45	46	47	48	49	50	51	52	53	54	55	56	57	58	59	60
A	D	C	A	D	B	D	C	E	C	E	B	C	E	D	C	E	A	E	B

Modelo de Redação

A Constituição federal, promulgada no ano de 1988, garante aos cidadãos o direito à segurança. Entretanto, diante dessa conjuntura, sabe-se que, no Brasil, a questão da violência no trânsito demonstra uma falha em tal garantia. Essa realidade se deve, essencialmente, à negligência estatal e à irresponsabilidade e intolerância do corpo social.

Sob esse viés, é importante ressaltar a falha governamental como um agravante da persistência dessa brutalidade. Nesse sentido, o pensador Zygmunt Bauman afirma que a sociedade caminha para uma desordem mundial, causada pela falta de controle do estado. Com isso, tal pensamento se confirma quando nota-se a escassez de políticas públicas voltadas para a segurança nas rodovias, uma vez que a infraestrutura deficiente e as leis ineficazes acerca da proteção social são os fatores causadores de uma maior violência, além do descaso do Poder Executivo ao se falar das estradas precárias, falhas na sinalização e falta de ciclovias, causando mortes e acidentes no trânsito. Contudo, o empecilho urge ser solucionado para que os direitos vigentes da Carta Magna sejam assegurados.

Ademais, vale apontar a falta de responsabilidade da população sobre os riscos de acidentes e violência no trânsito. Diante disso, o programa "Pateta no Trânsito" demonstra o personagem pateta como um cidadão que se transforma em outra figura ao tocar no volante, fazendo com que sinta um poder e cometa uma série de infrações. Assim, o desenho se assemelha à realidade brasileira no qual o povo não enxerga a gravidade e o perigo da situação, onde a imprudência e a irresponsabilidade como usar o aparelho celular ao dirigir, dirigir alcoolizado, acima da velocidade adequada ou não respeitar as regras de trânsito causam o aumento do número de casos de violência nas rodovias do país. Sob essa análise, é evidente a necessidade de um maior cuidado e seriedade das pessoas ao falar desse assunto.

Infere-se, portanto, que providências deverão ser tomadas para resolver a questão das medidas para combater a violência no trânsito no Brasil. Logo, cabe ao Governo Federal-principal órgão mediador- promover uma melhor segurança e infraestrutura das rodovias, além de leis eficazes, por meio de reformas e campanhas de incentivo à prudência no trânsito, a fim de que haja uma diminuição na violência atribuída pela irresponsabilidade governamental e social. Somente assim, os cidadãos terão seus direitos constitucionais garantidos em prática.