

# SIMULADO AMOSTRA

POLÍCIA MILITAR DE SÃO PAULO  
Soldado

---



## PROVA OBJETIVA

### Língua Portuguesa

#### 01. O emprego dos sinais de pontuação está de acordo com a norma-padrão em:

- A Por mais que, gostemos de roupas novas, é preciso conter o consumismo aproveitando bem, as que já temos.
- B O avô dele gosta: de manter o pulôver sempre limpo e no mesmo lugar, de sempre.
- C É necessário que de vez em quando se faça; uma organização geral dos objetos, usados em casa.
- D Enquanto os pais separavam os brinquedos, cuidadosamente, os filhos viam as roupas que não usavam mais.
- E Acumular, objetos que não são mais usados não faz bem, e há pessoas que não têm nada e estão precisando deles.

#### Texto I (Questões 02 a 08)

##### Objetos de estimação

Os objetos do outro não devem ser menosprezados. Não se pode julgar pela aparência, pois, muitas vezes, são de estimação. O valor emocional nunca está explícito na etiqueta. Assim, um tênis velho pode ser o mais confortável. Um chinelo indigente talvez represente a liberdade do lar. Não são objetos de valor, como um relógio antigo ou um colar de prata. Mas são objetos quebrados, machucados, sofridos, enferrujados.

O avô de Fabrício, Leônida, por exemplo, entrava em pânico quando não achava a tesourinha de aparar bigode, que tinha desde a época de sua adolescência. Às vezes, ele nem queria a tesourinha para usar na hora, era somente para se certificar de que permanecia no mesmo lugar onde a tinha deixado.

A maior indignação de Leônida foi quando desapareceu o seu pulôver amarelo, que repousava sempre nas costas de uma cadeira. Tamanho o apego, nem corria o risco de colocá-lo para lavar com frequência. Vestia a malha para cortar lenha de manhã. Qualquer um o enxergava de longe, trabalhando com a machadinha no quintal.

Um dia, depois de procurar incansavelmente o pulôver nas gavetas e nos armários, de esculhambar a casa, revirar o quarto, chegou perto da mulher, que estava encerando o piso, e perguntou-lhe se ela não tinha pegado a peça por engano. Ela nem precisou responder. Leônida, arrasado, enxergou o pulôver amarelo nos pés de sua esposa. Havia sido

aposentado à força e transformado num pano para lustrar o chão.

Fabrício Carpinejar – Adaptado

#### 02. De acordo com o primeiro parágrafo, é correto afirmar que

- A chega a ser doentio guardar objetos muito antigos, uma vez que estes nem são mais utilizados com frequência.
- B ficar guardando coisas já bastante usadas é importante, porque evita o consumismo.
- C as pessoas costumam preservar aquilo que possui maior valor material, pois fizeram muito sacrifício para a sua aquisição.
- D é comum respeitar a vontade de manter os objetos já usados, porque há uma compreensão do significado que estes têm para quem os preserva.
- E guardar objetos, mesmo que em mau estado, faz sentido para as pessoas, pois cada uma sabe o que eles representam.

#### 03. Conforme o texto, é correto afirmar que o avô de Fabrício

- A foi desconsiderado pela esposa, quando esta desrespeitou a relação afetiva que ele tinha com o pulôver amarelo.
- B gostava quando os netos pediam para vê-lo usando a tesourinha ao aparar o bigode.
- C aceitou com tranquilidade que o pulôver amarelo havia sido aposentado.
- D cuidava para que o pulôver se mantivesse limpo, e a tesourinha bem guardada.
- E já imaginava que o pulôver seria logo transformado num pano de chão.

#### 04. Segundo o texto, Leônidas sentiu, em relação ao pulôver, na ordem em que os sentimentos se apresentaram:

- A tédio e raiva.
- B angústia e empatia.
- C revolta e tristeza.
- D preocupação e nojo.
- E raiva e alívio.

#### 05. Na frase contida no 4º parágrafo – Um dia, depois de procurar incansavelmente o pulôver nas gavetas e nos armários, de esculhambar a casa ... –, as palavras destacadas podem ser substituídas,

na ordem em que se apresentam e sem alteração de sentido, por:

- A calmamente ... revirar
- B persistentemente ... bagunçar
- C ansiosamente ... sujar
- D apressadamente ... danificar
- E cuidadosamente ... estragar

**06. Assinale a alternativa em que o termo destacado na frase atribui uma característica à palavra anterior.**

- A ... não achava a tesourinha de aparar bigode... (2º parágrafo)
- B ... permanecia no mesmo lugar onde a tinha deixado. (2º parágrafo)
- C Vestia a malha para cortar lenha de manhã. (3º parágrafo)
- D ... perguntou-lhe se ela não tinha pegado a peça por engano. (4º parágrafo)
- E ... enxergou o pulôver amarelo nos pés de sua esposa. (4º parágrafo)

**07. A alternativa em que há palavra(s) ou expressão(ões) empregadas com sentido figurado é:**

- A Os objetos do outro não devem ser menosprezados. (1º parágrafo)
- B Um chinelo indigente talvez represente a liberdade do lar. (1º parágrafo)
- C Tamanho o apego, nem corria o risco de colocá-lo para lavar com frequência. (3º parágrafo)
- D Vestia a malha para cortar lenha de manhã. (3º parágrafo)
- E ... perguntou-lhe se ela não tinha pegado a peça por engano. (4º parágrafo)

**08. No trecho do 1º parágrafo – Os objetos do outro não devem ser menosprezados. –, a palavra destacada tem sentido contrário de**

- A descuidados.
- B abandonados.
- C destruídos.
- D considerados.
- E desdenhados.

**09. Quanto à ocorrência do acento indicativo de crase, está em conformidade com a norma-padrão da língua portuguesa a frase:**

- A Os pais gostariam que seus filhos se dedicassem mais à tarefas domésticas.

- B Um campeonato de bairro é fundamental para proporcionar diversão à cada família.
- C São muitas as matérias que precisam ser estudadas às vésperas de um vestibular.
- D Reconhecer os feitos alheios nos ajuda à sermos pessoas melhores na sociedade.
- E A privacidade que às pessoas buscam quando conversam é compreensível.

**10. Assinale a alternativa em que a frase está em conformidade com a norma-padrão de concordância da língua portuguesa.**

- A Os filhos quiseram estar perto dos pais, os quais tentavam mostrar-lhe gratidão.
- B Quando finalmente as férias da moça chegou, ela teve que rever sua programação.
- C Ter parentes médicos podem ser essenciais para entender uma questão de saúde.
- D Cirurgia de última hora pode ser algo difícil de se conseguir sob certas condições.
- E Após ter passada uma noite na UTI, o paciente já mostrava sinais de recuperação.

**11. Assinale a alternativa em que o numeral corresponde, corre-tamente, à sua forma escrita.**

- A 48.º candidato – quadragésimo oito candidato.
- B Século XIV – Século dezesseis.
- C 653.000 mandados de prisão – seiscentos e cinquenta e três mil mandados de prisão.
- D Mulher deu à luz 5 bebês. – Mulher deu à luz quintos.
- E 1/3 do salário – o triplo do salário.

**12. Leia a tira para responder à questão.**



Bob Thaves, Frank & Ernest

**Em sua fala, a personagem emprega a conjunção “mas” para**

- A concluir um pensamento.
- B comparar duas informações.
- C resumir as informações anteriores.
- D opor uma informação a outra.
- E explicar o sentido de uma expressão.

**13. A alternativa em que os verbos estão conjugados de acordo com a norma-padrão é:**

A Se prever conflitos entre as torcidas, o organizador do torneio poderá suspendê-lo por prazo indeterminado.

B O docente que repor as aulas suspensas em razão do racionamento de água receberá o pagamento no mês seguinte ao da reposição.

C Quando os fornecedores virem trazer os equipamentos de informática, serão orientados a entrar pela porta principal.

D Para resolver a crise, os administradores propõem medidas de contenção de gastos e a suspensão de contratações.

E Haveria menos atritos entre os participantes da gincana, se o orientador interviesse com energia para coibir excessos.

**Texto II (Questões 14 a 19)**

**Democracia fraca afeta o PIB**

Uma pesquisa sobre o desenvolvimento de mais de 160 países com realidades políticas variadas, no período de 1960 a 2018, comparou o desempenho de regimes democráticos com aqueles nos quais a democracia é parcial, incompleta ou, em uma palavra, instável. A conclusão foi inequívoca: no longo prazo, o Produto Interno Bruto (PIB) per capita das chamadas democracias defeituosas, iliberais ou híbridas cresceu cerca de 20% menos do que em regimes democráticos estáveis. A democracia é fator de avanço econômico.

Os autores do estudo são economistas vinculados a instituições europeias: Nauro Campos, da Universidade College London; Fabrizio Coricelli, da Paris School of Economics; e Marco Frigerio, da Universidade de Siena. Segundo eles, uma das consequências negativas da instabilidade democrática é a prevalência de visões de curto prazo. “A instabilidade induz a comportamento míope com o objetivo de obter rendas no curto prazo e desconsiderar os efeitos a longo prazo”, diz o texto. Uma revisão bibliográfica apontou que essa visão curto-prazista típica de regimes instáveis acaba diminuindo investimentos no setor produtivo.

A democracia, segundo outro pesquisador citado no estudo, aumenta as chances de reformas econômicas e de ampliação das matrículas na educação básica. Segundo o professor Nauro Campos, em entrevista ao jornal O Globo, democracias frágeis e debilitadas prejudicam a execução de políticas públicas. Um exemplo disso é a nomeação de pessoas despreparadas para órgãos técnicos que prestam

serviços à população. Esse tipo de problema, afirmou Campos, faz cair a confiança nas instituições.

O regime democrático prevê direitos civis, sociais, políticos e de propriedade. Capaz de solucionar pacificamente conflitos por meio da política, em vez da guerra, a democracia é chave também para o crescimento econômico.

Opinião, ESTADÃO – Adaptado

**14. Ao trazer informações dos estudos sobre mais de 160 países, o editorial deixa claro que o PIB de uma nação**

A se harmoniza, com frequência, à visão imediatista para fortalecer a democracia.

B se fortalece, quando há observação dos princípios democráticos por seus governantes.

C se vê atacado pela democracia, que se fortalece à medida que ele tende a enfraquecer.

D se mantém estável nos regimes instáveis, embora sem fortalecimento da democracia.

E se corrói paulatinamente, se a sociedade persegue o fortalecimento de sua democracia.

**15. A frase que encerra o primeiro parágrafo “A democracia é fator de avanço econômico.” deve ser entendida como**

A uma explicação com caráter crítico que questiona as informações precedentes.

B um comentário com caráter comparativo que nega as informações precedentes.

C uma hipótese com caráter ambíguo em relação às informações precedentes.

D um parecer com caráter concessivo que se opõe às informações precedentes.

E uma síntese com caráter conclusivo em relação às informações precedentes.

**16. Há informação expressa com termo em sentido figurado em:**

A ... com aqueles nos quais a democracia é parcial...

B Os autores do estudo são economistas...

C “A instabilidade induz a comportamento míope...”

D ... ampliação das matrículas na educação básica...

E ... nomeação de pessoas despreparadas...

**17. Considere os trechos:**

- **A conclusão foi inequívoca: no longo prazo, o Produto Interno Bruto (PIB) per capita das chamadas democracias defeituosas, iliberais ou**

híbridas cresceu cerca de 20% menos do que em regimes democráticos estáveis. (1º parágrafo)

• “A instabilidade induz a comportamento míope com o objetivo de obter rendas no curto prazo e desconsiderar os efeitos a longo prazo”, diz o texto. (2º parágrafo)

O emprego de dois-pontos no primeiro parágrafo e o emprego de aspas no segundo parágrafo têm a função de indicar, correta e respectivamente:

- A retificação da informação anterior; fala.
- B síntese da informação anterior; comentário.
- C ratificação da informação anterior; ênfase.
- D detalhamento da informação anterior; citação.
- E exemplificação da informação anterior; correção.

18. Assinale a alternativa em que a pontuação, a colocação pronominal e a concordância verbal atendem à norma-padrão.

- A Quando se opta pela política para que se solucionem pacificamente os conflitos, a democracia viabiliza o crescimento econômico.
- B Diz o texto que para que se obtenha rendas no curto prazo, a instabilidade de uma democracia induz a comportamento míope.
- C Prevê-se, em um regime democrático, direitos civis, sociais, políticos e de propriedade. E os conflitos resolvem-se pacificamente.
- D Em democracias estáveis existe chances de reformas econômicas; as frágeis porém, se configuram como obstáculo a elas.
- E Se constatam com a democracia, o aumento das chances de reformas econômicas e de ampliação das matrículas na educação básica.

19. No trecho “Uma revisão bibliográfica apontou que essa visão curto-prazista típica de regimes instáveis acaba diminuindo investimentos no setor produtivo.”, a classe de palavra a que pertence o termo “que” é a mesma daquele destacado em:

- A As nações que têm instabilidade democrática crescem menos.
- B É importante que as nações tenham suas economias fortalecidas.
- C Que ações serão necessárias para fortalecer as economias mundiais?
- D Os estudiosos, que analisam a economia, são de renomadas universidades.
- E Que espanto causa a todos saber que o PIB de um país não cresce.

20. A frase que está em conformidade com a norma-padrão da língua portuguesa de regência é:

- A Os catadores desempenham de um papel social fundamental para a reciclagem.
- B Objetos antigos podem transformar-se a novas peças com um pouco de criatividade.
- C Muitos jovens conscientes hoje são adeptos em uma vida menos consumista.
- D Via-se que o homem era entendido aos assuntos de relíquias antigas e valiosas.
- E A sua filosofia de vida resultava de sua maturidade e era motivo de admiração.

## Matemática

21. São necessários cinco lavadores de vidraças para lavarem uma fachada em uma hora. Três lavadores, trabalhando sempre no mesmo ritmo, irão demorar para lavar uma fachada idêntica a essa

- A 36 minutos.
- B 1 hora e 20 minutos.
- C 1 hora e 40 minutos.
- D 1 hora e 45 minutos.
- E 1 hora e 50 minutos.

22. O salário mensal de um ajudante é de R\$ 1.800,00. Para o próximo mês, seu salário será reajustado em 6% mais uma bonificação. Sabendo-se que seu salário para próximo mês será de R\$ 2.000,00, o valor da bonificação será de

- A R\$ 92,00.
- B R\$ 94,00.
- C R\$ 95,00.
- D R\$ 96,00.
- E R\$ 98,00.

23. Sabe-se que a Estação Sé do Metrô de São Paulo tem  $x$  escadas fixas e  $2x + 10$  escadas rolantes. Se a razão entre o número de escadas fixas e o número de escadas rolantes é igual a  $\frac{7}{19}$ , então o número total de escadas (fixas mais rolantes) da Estação Sé do Metrô é igual a

- A 26.
- B 32.
- C 38.
- D 46.
- E 52.

24. A média aritmética dos preços de cinco produtos é R\$ 36,80. Se o único produto que custa R\$ 20,00 sofrer um aumento de 20%, e os demais produtos permanecerem com o mesmo preço, a média aritmética dos preços desses cinco produtos passará a ser igual a

- A R\$ 37,60.
- B R\$ 38,30.
- C R\$ 40,50.
- D R\$ 42,70.
- E R\$ 44,10.

25. Raul deverá tomar dois remédios durante 30 dias. Um desse remédios ele deverá tomar de 5 em 5 horas, e o outro, de 8 em 8 horas. Se no dia 2 de junho, às 8h, Raul iniciar o tratamento tomando esses dois remédios ao mesmo tempo, a sétima vez em que ele tomará os dois remédios ao mesmo tempo será no dia

- A 12 de junho.
- B 18 de junho.
- C 24 de junho.
- D 28 de junho.
- E 1 de julho.

26. Em um depósito há 25 caixas grandes, cada uma delas com massa igual a 3,4 kg, e 35 caixas médias, todas iguais e de mesma massa entre si. A soma das massas de todas as caixas é igual 113 kg. A massa de uma caixa média é igual a

- A 800 g.
- B 750 g.
- C 700 g.
- D 650 g.
- E 600 g.

27. Uma pessoa comprou bombons de chocolate ao leite e bombons de chocolate branco, no total de 30 unidades. Sabe-se que essa pessoa comprou 6 bombons a mais de chocolate branco do que de chocolate ao leite, então, o número de bombons comprados de chocolate branco é

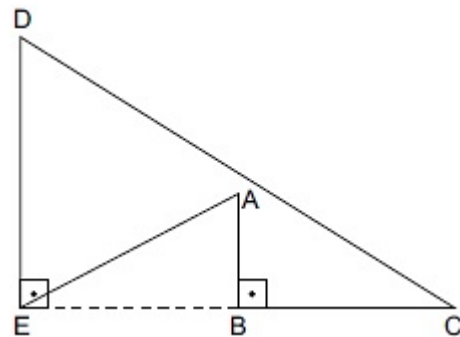
- A 20.
- B 18.
- C 16.
- D 14.
- E 12.

28. Num telhado retangular medindo 12,0 m de comprimento por 4,0 m de largura foram colocadas placas retangulares de 1,0 m por 80,0 cm para a

captação de energia solar. As placas foram colocadas sem espaço entre elas e sem sobreposição. O maior número de placas que podem ser colocadas nesse telhado é igual a

- A 24.
- B 36.
- C 48.
- D 60.
- E 72.

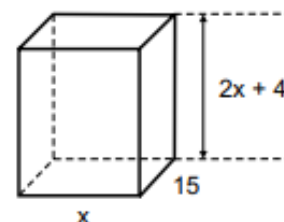
29. A figura a seguir, desenhada fora de escala é a representação de uma trilha de caminhada. O início da trilha é no ponto A, seguindo para B, depois C, D, E, e finalmente termina chegando novamente em A. Os polígonos CDE e ABE são triângulos retângulos.



O trecho AB mede 3 km, o trecho BC mede 8 km, o trecho DE mede 5 km, o trecho BE mede 4 km. Uma pessoa que completar essa trilha terá percorrido uma distância, em km, de

- A 32.
- B 34.
- C 35.
- D 37.
- E 41.

30. Um recipiente vazio, na forma de um prisma reto de base retangular, tem suas medidas internas, em centímetros, indicadas na figura (fora de escala).



Dentro desse recipiente foram colocados 900 cm<sup>3</sup> de água, que atingiu a altura de 5 cm. A capacidade máxima desse recipiente é

- A 5040 cm<sup>3</sup>
- B 4770 cm<sup>3</sup>
- C 4500 cm<sup>3</sup>
- D 3690 cm<sup>3</sup>
- E 2880 cm<sup>3</sup>

31. Com 3,5 metros de tecido, a costureira Alice fez 28 panos de prato, todos do mesmo tamanho. No dia seguinte, ela comprou mais 4,5 metros de tecido e fez mais panos de prato iguais aos anteriores. Nos dois dias, o total de panos de prato que ela fez foi

- A 64.
- B 60.
- C 54.
- D 48.
- E 36.

32. Participaram da assembleia de moradores de um prédio 72 moradores do bloco A e 88 moradores do bloco B. Todas essas pessoas foram divididas em grupos, cada grupo com o mesmo número de pessoas, de modo que esse número foi o maior possível, e, além disso, cada grupo só contava com moradores de um mesmo bloco. O número total de grupos formados foi

- A 8.
- B 12.
- C 16.
- D 20.
- E 24.

33. Em um grupo de amigos, o número de casados supera o número de não casados em 3 pessoas. Sabendo-se que a razão entre os números de não casados e casados é  $\frac{3}{4}$ , o número de pessoas nesse grupo é igual a

- A 14.
- B 21.
- C 28.
- D 35.
- E 42.

34. Uma pessoa comprou 3 camisetas e obteve um desconto de 10% sobre o valor das etiquetas. Após pagar R\$ 306,00 pela compra, foi constatado que a camiseta mais cara não tinha esse desconto e, por isso, essa pessoa precisou pagar mais R\$ 15,00. Se a diferença de preço entre as outras duas camisetas, antes do desconto, era de R\$ 10,00, o valor da camiseta mais barata, após o desconto de 10%, era de

- A R\$ 90,00.
- B R\$ 86,00.
- C R\$ 81,00.
- D R\$ 80,00.
- E R\$ 77,00.

35. Para o preparo de bandeirinhas decorativas para uma festa escolar, 12 pessoas conseguem preparar 420 bandeirinhas trabalhando durante 3 horas. Supondo que todas as pessoas preparam bandeirinhas gastando sempre o mesmo tempo, o número de pessoas necessárias para preparar 3360 bandeirinhas em 6 horas será de

- A 48.
- B 50.
- C 52.
- D 54.
- E 56.

## Conhecimentos Gerais

36. “Encerrada a Primeira Guerra Mundial em 1918, para surpresa dos diplomatas europeus, Wilson viajou ao Velho Mundo a fim de participar das discussões da paz ocorridas na Conferência de Paris (1919). Na composição da delegação norte-americana, que acompanhou o presidente à Conferência de Paris, não havia um único representante do Partido Republicano ou do Senado, o que constituía erro imperdoável.” (História das Sociedades Americanas) A situação tratada no texto teve como efeito nos Estados Unidos:

- A a decisão do Congresso de exigir que os Estados Unidos participassem da partilha de colônias tomadas aos vencidos, na África e Ásia;
- B tanto o Tratado de Versalhes como o pacto de criação da Liga das Nações foram rejeitados pelo Senado;
- C a eleição do candidato James Cox do Partido Democrata, para a presidência dos Estados Unidos, com o apoio de Wilson;
- D a continuidade de uma política internacionalista, pela diplomacia norte-americana, com os Estados Unidos liderando a Liga das Nações;
- E a reeleição de Woodrow Wilson para a presidência dos Estados Unidos que, devido à oposição do Senado, teve que adotar uma política externa isolacionista.

**37. “O Mundo Bipolar se estabeleceu após a Segunda Guerra Mundial (1945), onde grande parte dos países europeus envolvidos no conflito, em especial a Alemanha, Itália, Áustria, Reino Unido e França, encontravam-se extremamente abalados devido à destruição de indústrias, propriedades agrícolas, pontes, rodovias, ferrovias, além da redução significativa do contingente populacional – estima-se que cerca de 15 milhões de pessoas morreram na Europa durante a guerra.” (PreparaEnem.com) Qual das alternativas abaixo indica as duas superpotências que representavam cada um desses polos?**

- A China e EUA
- B Japão e Canadá
- C EUA e URSS
- D Inglaterra e Japão
- E Coreia do Norte e URSS

**38. A frágil intervenção do Estado na garantia dos direitos sociais, até o início do século XX, deveu-se à forte influência do pensamento neoliberal que define, como uma perspectiva central, a(o)**

- A coletividade como sujeito de direito
- B diminuição do papel do Estado
- C desnaturalização da miséria
- D socialização da riqueza produzida
- E mercado regulável e institucionalizado

**39. Getúlio Vargas foi um político e líder brasileiro que governou o país por duas vezes. Durante sua história, coordenou e articulou forças políticas que permitiram uma série de medidas e projetos que tiveram impacto significativo na história do Brasil, sendo considerado por muitos como o fundador do Brasil Moderno, pois construiu instituições e um legado político que até hoje se confundem com a própria ideia de soberania nacional. Das seguintes realizações, aquela NÃO implementada por Getúlio Vargas foi:**

- A Criação do Ministério do Trabalho.
- B Criação do BNDES.
- C Criação do Ministério da Educação e do CNPq.
- D Criação do Banco do Brasil.
- E Criação da PETROBRAS.

**40. Qual evento histórico determinou o encerramento do período militar no Brasil?**

- A A eleição de João Figueiredo da Silva.
- B A criação da Constituição de 1988.
- C A eleição de Fernando Collor de Mello.

- D A eleição de Tancredo de Almeida Neves, pelo colégio eleitoral, em 15 de novembro de 1985.
- E A vitória de Tancredo Neves, realizada com a participação do povo Brasileiro, no ano de 1985.

**41. Assinale a única alternativa verdadeira referente à Revolução de 1930:**

- A A Revolução ocorreu durante o governo de Prudente de Moraes.
- B A Revolução de 1930 marcou o fim da República da Espada.
- C A questão da sucessão do Presidente Ernesto Geisel e o surgimento da Aliança Liberal antecederam a Revolução de 1930.
- D Pela primeira vez na história do Brasil República, nas eleições que levaram à Revolução de 1930 não houve registro de fraude.
- E Getúlio Vargas assumiu o poder como líder civil desta revolução, à frente de um movimento que agrupou as oligarquias dissidentes da Aliança Liberal e os militares rebeldes do movimento tenentista.

**42. “A globalização é, de certa forma, o ápice do processo de internacionalização do mundo capitalista. Para entendê-la, como, de resto, a qualquer fase da história, há dois elementos fundamentais a levar em conta: o estado das técnicas e o estado da política.” (Milton Santos) As opções a seguir apresentam os sentidos e as características da globalização, à exceção de uma. Assinale-a.**

- A Um mundo homogêneo, integrado e unido em torno de uma aldeia global representa a globalização como fábula.
- B O aumento da pobreza e da desigualdade são mazelas que indicam a perversidade do processo de globalização.
- C A unicidade técnica e a convergência dos momentos são fatores que ajudam a explicar a globalização.
- D As técnicas se apresentam de forma isolada, pois cada instrumento atua independentemente para a consolidação da globalização.
- E A concentração da sociodiversidade em alguns lugares do mundo serve como base para uma outra globalização.

**43. A Nova Ordem Geopolítica Mundial consiste no plano geopolítico internacional das correlações de poder e força entre os Estados Nacionais, durante o fim da Guerra Fria. Adotou-se, portanto, uma palavra para definir a Nova Ordem Mundial, que é a unipolaridade, sendo a segunda a multipolaridade e**



**a terceira a unimultipolaridade. Essa unipolaridade pode referir-se**

- A às mudanças na hierarquia internacional, para designar os múltiplos centros de poder.
- B ao aumento da extensão da área de influência econômica.
- C à emergência da reclassificação de desenvolvimento tecnológico.
- D ao poderio militar, que promove o reordenamento da ordem mundial.
- E à soberania político-militar dos Estados Unidos como medida de poder no mundo economicamente multipolar.

**44. Problema típico das grandes cidades e muito frequente no inverno. O ar quente, constituído, principalmente, de gases emitidos por automóveis e fábricas e carregado de poluentes, fica retido por uma camada superior de ar frio. O problema descrito acima se refere a (o):**

- A Ilhas de calor.
- B Efeito estufa.
- C Inversão térmica.
- D Chuvas ácidas.
- E El Niño.

**45. A favelização é um fenômeno presente em várias cidades brasileiras e representa um dos maiores desafios sociais do país. Sobre esse processo, assinale a alternativa correta.**

- A É recente no Brasil, começou na década de 1980, quando ocorreu um grande êxodo rural.
- B É resultado da falta de políticas habitacionais e do descaso do poder público com as camadas mais pobres da população, que se viram obrigadas a ocupar terrenos em áreas de risco.
- C Ocorre apenas em cidades grandes e metropolitanas, como São Paulo e Rio de Janeiro, onde a falta de espaço para a construção de novos imóveis é mais evidente.
- D É um fenômeno exclusivamente brasileiro, que não ocorre em outros países da América Latina.
- E É um processo natural, que decorre da urbanização e do crescimento das cidades, não podendo ser evitado.

**46. A rápida expansão da agricultura tecnificada de grãos e fibras no cerrado brasileiro se deve a um conjunto de fatores, sendo um deles**

- A a alta qualidade dos solos agrícolas que apresentam forte concentração de argilas, calcários e nutrientes.

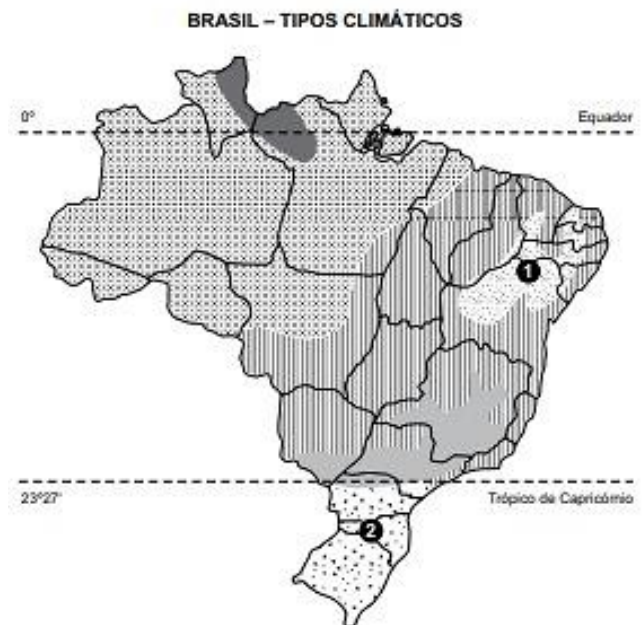
B a presença de grupos de goianos e mato-grossenses com grandes somas de capitais para investir localmente.

C a antiga e densa rede urbana que garantiu a formação de empresas de agronegócios de importância nacional.

D à possibilidade de ocupar os solos, elevar a produtividade e não provocar fortes impactos ambientais.

E o baixo valor das terras nos campos limpos e cerrados, ocupados anteriormente pela pecuária extensiva.

**47. Observe o mapa.**



**Os números 1 e 2, indicados no mapa, representam, respectivamente, os tipos climáticos:**

- A equatorial e tropical de altitude.
- B semiárido e subtropical.
- C tropical de altitude e subtropical.
- D semiárido e equatorial úmido.
- E semiárido e equatorial.

**48. “Com cartazes, estudantes realizaram na manhã desta quarta-feira (15) um ato pela revogação do Novo Ensino Médio. O protesto iniciou por volta das 9h no vão livre do Masp, na Avenida Paulista, e, às 10h, desceu para a Avenida Brigadeiro Luís Antônio. Depois, os estudantes seguiram destino para a Assembleia Legislativa de São Paulo. O Novo Ensino Médio, previsto numa lei aprovada em 2017, começou a ser implementado em 2022 em todo o país, nas escolas públicas e privadas, mas só se tornou obrigatório a partir deste ano.” (G1 –**

**Adaptado) A respeito do Novo Ensino Médio e das reivindicações dos alunos, é correto afirmar que os**

A estudantes querem que os professores façam cursos de reciclagem antes da implementação do novo modelo.

B conteúdos são divididos em áreas do conhecimento de maneira similar à que acontece no Exame Nacional do Ensino Médio (Enem).

C novos conteúdos são voltados para a área tecnológica e houve drástica redução da carga horária de disciplinas humanísticas.

D manifestantes exigem que as aulas sejam ministradas em tempo integral.

E estudantes exigem que, após a implementação total do novo modelo, os alunos, ao terminarem o último ciclo, ingressem, sem exame vestibular, no curso superior de sua livre escolha.

**49. Um dos motivos que explicam a invasão da Ucrânia pela Rússia é**

A maior aproximação da Ucrânia com a OTAN.

B anexação da Ucrânia pelos Estados Unidos.

C divergência religiosa.

D independência da Rússia.

E disputa eleitoral.

**50. No início de abril de 2023, foi sancionada e entrou em vigor a Lei nº 14.541, que se refere ao atendimento de mulheres vítimas de violência doméstica e familiar nas Delegacias Especializadas de Atendimento à Mulher (DEAM). Este tópico atual e nacional sobre a área política e social do país foi tema difundido em grande escala pelos meios de comunicação brasileiros. Qual a principal medida determinada pela nova lei de atendimento às mulheres vítimas de violência no Brasil?**

A Prisão preventiva e imediata do assediador durante o período de sete dias logo após a denúncia, enquanto o caso relatado pela vítima é investigado.

B Funcionamento das Delegacias Especializadas de Atendimento à Mulher ininterruptamente, 24h por dia, sete dias por semana, incluindo feriados.

C Funcionamento obrigatório de pelo menos uma Delegacia Especializada de Atendimento à Mulher em todos os municípios do Brasil até o fim de 2023.

D Oferta de cursos de especialização na área de violência contra mulher às agentes femininas de delegacias do Brasil.

E Atendimento às mulheres nas delegacias realizado em sala reservada e apenas por policiais do gênero feminino.

## Noções Básicas de Informática

**51. Ao navegar pela internet, deve-se conhecer a URL de um site. Considerando-se que a URL é composta por três partes principais: caminho, protocolo e domínio, a estrutura adotada para a URL é:**

A domínio://protocolo/caminho

B protocolo://domínio/caminho

C domínio://caminho/protocolo

D protocolo://caminho/domínio

E caminho://protocolo/domínio

**52. A chefia de uma empresa enviou um e-mail, especificando na opção Cc: os funcionários que deveriam recebê-la. A empresa e seus funcionários utilizam um programa típico para essa finalidade, como o Gmail. Um funcionário deseja responder esse e-mail, e existem diversas opções que o programa de e-mail permite selecionar, como a opção:**

A Responder Cco:, que envia a resposta a todos os destinatários ocultos que receberam a mensagem e a quem a enviou.

B Encaminhar, que envia a resposta automaticamente a quem enviou a mensagem e a todos que a receberam também.

C Responder a todos, que envia a resposta a todos que receberam a mensagem, exceto a quem a enviou.

D Responder, que envia a resposta exclusivamente a quem enviou a mensagem.

E Responder Cc:, que envia a resposta a todos que receberam a mensagem e a quem a enviou.

**53. Um usuário, preparando um texto no Bloco de Notas do MS-Windows 10, ambos em configuração padrão, digita o último caractere da última linha do texto e pressiona o atalho por teclado Ctrl + Shift + Home. A ação descrita no enunciado**

A apaga a última linha.

B apaga todo o texto.

C seleciona todo o texto.

D transfere a linha atual (última) para o início do texto.

E apaga todo o texto, exceto a linha atual (última).

**54. No Microsoft PowerPoint 2016, em sua configuração original, em uma apresentação contendo 10 slides, a quantidade máxima de slides que podem ser configurados como ocultos é**

A 0.

- B 1.
- C 2.
- D 5.
- E 10.

**55. O Microsoft Teams possui recursos que apoiam reuniões de times de trabalho em discussões, tais como o desenho ou a readequação de procedimentos organizacionais. Uma opção disponível para reuniões é o lobby, que funciona como**

- A discador de chamadas pinnedGroup
- B integrador de armazenamento com o OneDrive
- C integrador de tarefas com o calendário
- D notificador do feed de atividades
- E uma sala de espera de reuniões

## **Noções de Administração Pública**

**56. Nos termos da Constituição Federal, assinale a alternativa em que todas as Instituições descritas não possuem previsão no Capítulo da Segurança Pública.**

- A Polícia Civil e Guarda Municipal.
- B Corpos de Bombeiros Militares e Força Nacional.
- C Polícia Ferroviária Federal e Polícia Técnico-Científica.
- D Força Nacional e Polícia Técnico-Científica.
- E Polícia Militar e Força Nacional.

**57. No tocante aos direitos e garantias fundamentais elencados no texto constitucional, a vedação do anonimato está diretamente relacionada**

- A ao direito de participação política.
- B à liberdade de manifestação do pensamento.
- C ao direito de acesso à informação.
- D à liberdade de consciência e de crença.
- E ao livre exercício dos cultos religiosos.

**58. Nos moldes do que dispõe expressamente a Constituição do Estado de São Paulo, se um servidor público tiver sua capacidade de trabalho reduzida em decorrência de acidente de trabalho ou doença do trabalho, ele**

- A terá garantida a sua transferência para locais ou atividades compatíveis com sua situação.
- B deverá ser aposentado por invalidez, com proventos proporcionais ao tempo de serviço.

C deverá ser aposentado por invalidez, com proventos integrais correspondentes ao seu cargo.

D passará a receber parte dos seus vencimentos por meio de auxílio-saúde a ser pago pela Previdência do Estado.

E será readaptado em outro cargo, compatível com sua condição, com vencimentos proporcionalmente reduzidos.

**59. É correto afirmar sobre a Polícia Militar, com base na Constituição do Estado de São Paulo, que**

A ao Corpo de Bombeiros, além das atribuições definidas em lei, incumbe a execução de atividades de defesa civil.

B o Comandante-Geral da Polícia Militar será nomeado dentre oficiais da ativa ou da reserva, ocupantes dos dois últimos postos do Quadro de Oficiais Policiais Militares.

C aos soldados é assegurada independência funcional pela livre convicção nos atos de polícia ostensiva, cabendo-lhes definir discricionariamente o procedimento mais apropriado em cada situação.

D lhe incumbe, ressalvada a competência da União, as funções de polícia judiciária e a apuração de infrações penais.

E a remoção de integrante da carreira de soldado da Polícia Militar somente poderá ocorrer mediante pedido do interessado ou manifestação favorável da Casa Militar.

**60. Considere que Maria apresentou pedido de acesso a informações a um órgão público integrante da Administração Direta do Poder Executivo Municipal. Todavia seu pedido foi indeferido e negado o acesso a informações. De acordo com a Lei de Acesso à Informação (Lei nº 12.527/11), é correto afirmar que Maria**

A terá que concordar com a negativa de acesso, pois não é cabível recurso em face do indeferimento de acesso a informações.

B deverá protocolar pessoalmente reclamação no órgão público no prazo improrrogável de 15 (quinze) dias.

C deverá interpor pedido de reconsideração dirigido à Controladoria-Geral da União no prazo de 5 (cinco) dias.

D não tem direito a obter o inteiro teor de decisão de negativa de acesso, seja por certidão ou cópia.

E poderá interpor recurso dirigido à autoridade hierarquicamente superior à que exarou a decisão no prazo de 10 (dez) dias a contar da sua ciência.

## PROVA DISSERTATIVA

- A prova deverá ser feita com caneta esferográfica fabricada em material transparente, de tinta preta (preferencialmente) ou azul, com grafia legível, a fim de não prejudicar o seu desempenho quando da correção pela Banca Examinadora, não sendo permitida a interferência e a participação de terceiros, salvo o caso em que o candidato tenha solicitado condição especial para a realização das provas;
- A Prova Dissertativa será composta por uma redação, a ser avaliada na escala de **0 (zero)** a **40 (quarenta)** pontos;
- A redação deverá ser redigida, **no máximo**, em 30 (trinta) linhas;
- A fuga completa ao tema proposto é motivo suficiente para que a redação não seja corrigida em qualquer outro de seus aspectos, recebendo nota 0 (zero).

### Leia, com atenção, o texto a seguir:

Pesquisadores destacaram o potencial de ferramentas de criação de imagens alimentadas por inteligência artificial, como as da OpenAI e Microsoft, para produzir fotos que possam promover a desinformação eleitoral ou relacionada à votação, apesar das políticas contra conteúdo enganoso.

O Centro de Combate ao Ódio Digital (CCDH), uma organização sem fins lucrativos que monitora o discurso de ódio online, utilizou ferramentas de IA generativa para criar imagens do presidente dos Estados Unidos, Joe Biden, deitado numa cama de hospital, e de funcionários eleitorais destruindo máquinas de votação. Tais ações levantaram preocupações sobre possíveis falsificações antes das eleições presidenciais norte-americanas em novembro.

“O potencial de tais imagens geradas por IA servirem como ‘evidências fotográficas’ poderia exacerbar a propagação de alegações falsas, representando um desafio significativo para a preservação da integridade das eleições”, afirmaram os investigadores do CCDH em um relatório.

O CCDH testou ferramentas como ChatGPT Plus da OpenAI, Image Creator da Microsoft, Midjourney e DreamStudio da Stability AI, que podem gerar imagens a partir de requisições de texto do usuário.

O relatório vem após um anúncio recente de que OpenAI, Microsoft e Stability AI estavam entre um grupo de empresas de tecnologia que assinaram um acordo para colaborar na prevenção de conteúdo enganoso de IA que possa interferir em eleições em todo o mundo este ano. O Midjourney não estava entre os signatários iniciais.

Segundo o CCDH, as ferramentas de IA geraram imagens em 41% dos testes realizados pelos pesquisadores e foram mais suscetíveis a solicitações que pediam fotos relacionadas a fraudes eleitorais, como cédulas de votação no lixo, em vez de imagens de Biden ou do ex-presidente dos EUA, Donald Trump. [...]

**Bomba! Ferramentas de IA podem gerar imagens para fake news eleitoral.** Disponível em: <https://www.ocafezinho.com>

Considerando que o fragmento de texto apresentado tem caráter meramente motivador, redija um texto dissertativo a respeito do seguinte tema: **Fake News nas Eleições.**

**Rascunho**

|    |  |
|----|--|
| 1  |  |
| 2  |  |
| 3  |  |
| 4  |  |
| 5  |  |
| 6  |  |
| 7  |  |
| 8  |  |
| 9  |  |
| 10 |  |
| 11 |  |
| 12 |  |
| 13 |  |
| 14 |  |
| 15 |  |
| 16 |  |
| 17 |  |
| 18 |  |
| 19 |  |
| 20 |  |
| 21 |  |
| 22 |  |
| 23 |  |
| 24 |  |
| 25 |  |
| 26 |  |
| 27 |  |
| 28 |  |
| 29 |  |
| 30 |  |

**Texto Definitivo**

|    |  |
|----|--|
| 1  |  |
| 2  |  |
| 3  |  |
| 4  |  |
| 5  |  |
| 6  |  |
| 7  |  |
| 8  |  |
| 9  |  |
| 10 |  |
| 11 |  |
| 12 |  |
| 13 |  |
| 14 |  |
| 15 |  |
| 16 |  |
| 17 |  |
| 18 |  |
| 19 |  |
| 20 |  |
| 21 |  |
| 22 |  |
| 23 |  |
| 24 |  |
| 25 |  |
| 26 |  |
| 27 |  |
| 28 |  |
| 29 |  |
| 30 |  |

**Gabarito Rascunho**

|    |    |    |    |    |    |    |    |    |    |    |    |    |    |    |    |    |    |    |    |
|----|----|----|----|----|----|----|----|----|----|----|----|----|----|----|----|----|----|----|----|
| 01 | 02 | 03 | 04 | 05 | 06 | 07 | 08 | 09 | 10 | 11 | 12 | 13 | 14 | 15 | 16 | 17 | 18 | 19 | 20 |
|    |    |    |    |    |    |    |    |    |    |    |    |    |    |    |    |    |    |    |    |
| 21 | 22 | 23 | 24 | 25 | 26 | 27 | 28 | 29 | 30 | 31 | 32 | 33 | 34 | 35 | 36 | 37 | 38 | 39 | 40 |
|    |    |    |    |    |    |    |    |    |    |    |    |    |    |    |    |    |    |    |    |
| 41 | 42 | 43 | 44 | 45 | 46 | 47 | 48 | 49 | 50 | 51 | 52 | 53 | 54 | 55 | 56 | 57 | 58 | 59 | 60 |
|    |    |    |    |    |    |    |    |    |    |    |    |    |    |    |    |    |    |    |    |

**Gabarito**

**Simulado Amostra – Polícia Militar de São Paulo**

**NÍVEL MÉDIO**

| <b>Soldado PM de 2ª Classe</b> |    |    |    |    |    |    |    |    |    |    |    |    |    |    |    |    |    |    |    |
|--------------------------------|----|----|----|----|----|----|----|----|----|----|----|----|----|----|----|----|----|----|----|
| 01                             | 02 | 03 | 04 | 05 | 06 | 07 | 08 | 09 | 10 | 11 | 12 | 13 | 14 | 15 | 16 | 17 | 18 | 19 | 20 |
| D                              | E  | A  | C  | B  | E  | B  | D  | C  | D  | C  | D  | E  | B  | E  | C  | D  | A  | B  | E  |
| 21                             | 22 | 23 | 24 | 25 | 26 | 27 | 28 | 29 | 30 | 31 | 32 | 33 | 34 | 35 | 36 | 37 | 38 | 39 | 40 |
| C                              | A  | E  | A  | A  | A  | B  | D  | B  | A  | A  | D  | B  | C  | A  | B  | C  | B  | D  | D  |
| 41                             | 42 | 43 | 44 | 45 | 46 | 47 | 48 | 49 | 50 | 51 | 52 | 53 | 54 | 55 | 56 | 57 | 58 | 59 | 60 |
| E                              | D  | E  | C  | B  | E  | B  | B  | A  | B  | B  | D  | C  | E  | E  | D  | B  | A  | A  | E  |

**Modelo de Redação**

No mundo contemporâneo, a disseminação de notícias falsas, conhecidas como “fake news”, emerge como uma ameaça silenciosa e persistente à integridade das democracias globais. Este fenômeno, amplificado pelas redes sociais, não apenas distorce a realidade, mas também mina a confiança pública nas instituições democráticas, fomentando divisões sociais e políticas.

A proliferação de fake news é facilitada pela natureza interconectada do mundo digital, onde a verificação de fatos é frequentemente ofuscada pela rapidez com que as informações são compartilhadas. Tal velocidade favorece a disseminação de conteúdos sem a devida checagem, permitindo que informações inverídicas ganhem força e sejam utilizadas como ferramentas de manipulação política e social.

Além disso, a manipulação da opinião pública através de fake news pode influenciar diretamente o resultado de eleições, comprometendo a legitimidade do processo democrático. A criação de realidades paralelas, onde os eleitores são expostos apenas a informações que reforçam suas visões preexistentes, cria câmaras de eco que isolam indivíduos da diversidade de pensamentos e opiniões, essencial para a vitalidade democrática.

Confrontar o desafio imposto pelas fake news requer um esforço conjunto entre governos, plataformas de mídia social e a sociedade civil. Medidas como a educação midiática, que visa ensinar as pessoas a identificar e questionar a veracidade das informações que recebem, são fundamentais. Da mesma forma, a implementação de políticas públicas e regulamentações que incentivem a transparência e a responsabilidade das plataformas digitais pode contribuir para mitigar a circulação de notícias falsas.

Entretanto, a solução para este problema não reside apenas na esfera regulatória ou educacional. A responsabilidade também recai sobre o indivíduo, que deve exercer discernimento crítico e buscar fontes de informação confiáveis. A construção de uma sociedade bem informada e crítica é, portanto, o alicerce para defender a democracia das sombras projetadas pelas fake news.